



ΟΝΟΜΑ: _____

ΗΜΕΡΟΜΗΝΙΑ: _____

ΜΑΘΗΜΑΤΙΚΑ 7^η ΕΝΟΤΗΤΑ
Επαναληπτικές Ασκήσεις (Κεφ. 40-45)



1. Συμπληρώνω τους αριθμούς που λείπουν



2. Συμπληρώνω τα μοτίβα.

10	20	40					
----	----	----	--	--	--	--	--

325	350	375							
-----	-----	-----	--	--	--	--	--	--	--

3. Βάζω τους παρακάτω αριθμούς στη σειρά από το μικρότερο στο μεγαλύτερο.

3.485 1.008 3.950 2.805 1.808 3.590

.....<.....<.....<.....<.....<.....<.....

4. Βρες και χάραξε τους άξονες συμμετρίας (κάθετους και οριζόντιους) στα παρακάτω γράμματα.

Ε

Η

Φ

5. Γράφω τον προηγούμενο και τον επόμενο αριθμό:


← 5.000 →

← 4.900 →

← 3.999 →

← 5.280 →

← 4.450 →



← 6.000 →

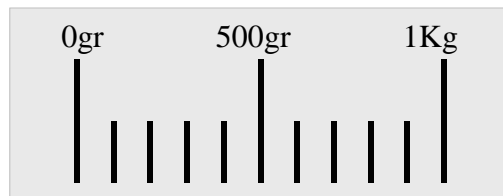
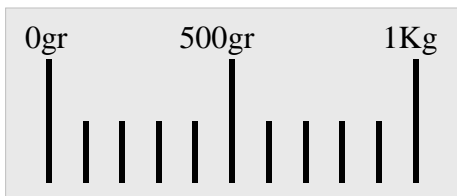
← 5.780 →

← 6.999 →

← 4.300 →

← 5.010 →

6. Σχεδιάζω το δείκτη στις ζυγαριές.



7. Πόσα γραμμάρια είναι:

1 κιλό =

3 κιλά =

6 κιλά =

μισό κιλό =

1 τέταρτο του κιλού =

3 τέταρτα του κιλού =

2,5 κιλά =

2 κιλά 500 γραμμ. =

5 κιλά 5 γραμμ. =

8. Λύνω το παρακάτω πρόβλημα:

Ο Νεκτάριος ζυγίζει 36,5 κιλά. Ο Μάρκος είναι 2,3 κιλά βαρύτερος.

α) Πόσα κιλά ζυγίζει ο Μάρκος;

β) Αν ανέβουν και οι δύο φίλοι μαζί στη ζυγαριά, ποια θα είναι η ένδειξή της;

Εδώ κάνεις τις πράξεις

