

ΟΝΟΜΑ: \_\_\_\_\_

ΗΜΕΡΟΜΗΝΙΑ: \_\_\_\_\_

**ΜΑΘΗΜΑΤΙΚΑ 1<sup>η</sup> ΕΝΟΤΗΤΑ**  
**ΚΕΦ.1: ΑΡΙΘΜΟΙ ΜΕΧΡΙ ΤΟ 1000**


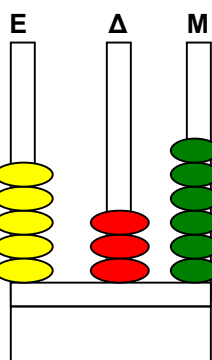

**1. Το γραφείο του Θανάση.**





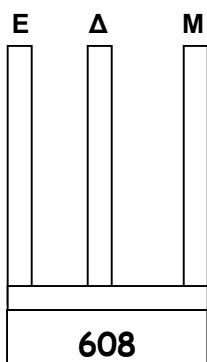
Ο Θανάσης με τη μητέρα του επισκέπτονται ένα κατάστημα επίπλων. Θέλουν να αγοράσουν έπιπλα για το γραφείο του Θανάση. Η μητέρα έχει στην τσάντα της **900€**.

- Φτάνουν τα χρήματα, για να αγοράσουν όλα τα έπιπλα που φαίνονται στην εικόνα;  
.....
- Αν αγοράσουν μόνο το γραφείο, την καρέκλα και το σκαμπό, πόσα χρήματα θα μείνουν στη μητέρα; .....
- Αν αγοράσουν όλα τα έπιπλα, πόσα χρήματα θα οφείλουν ακόμη στον καταστηματάρχη; .....
- Αν αγοράσουν όλα τα έπιπλα και ο καταστηματάρχης τους κάνει έκπτωση **100€**, πόσα χρήματα θα μείνουν στη μητέρα; .....

**2. Γράφω με αριθμητικά ψηφία τους αριθμούς που δείχνουν οι άβακες.**



**3. Σχηματίζω τους παρακάτω αριθμούς στους άβακες.**



4. Πόσες εκατοντάδες, δεκάδες και μονάδες έχουν οι αριθμοί:

|     |            |       |       |
|-----|------------|-------|-------|
| 487 | Έχει ... Ε | ... Δ | ... Μ |
| 530 | Έχει ... Ε | ... Δ | ... Μ |
| 604 | Έχει ... Ε | ... Δ | ... Μ |
| 800 | Έχει ... Ε | ... Δ | ... Μ |

5. Βρίσκω το άθροισμα που προκύπτει από κάθε αριθμό.

$$515 = 500 + 10 + 5$$

$$356 = \dots\dots\dots$$

$$602 = \dots\dots\dots$$

$$780 = \dots\dots\dots$$

6. Βρίσκω τον αριθμό που προκύπτει από κάθε άθροισμα.

$$400 + 70 + 9 = 479$$

$$800 + 10 + 5 = \dots\dots$$

$$200 + 60 + 3 = \dots\dots$$

$$600 + 40 + 1 = \dots\dots$$

7. Ανεβαίνω ανά 100 από το 100 μέχρι το 1000:

100, 200, .....

8. Κατεβαίνω ανά 100 από το 1000 μέχρι το 100:

1000, 900, .....

9. Ποιος είναι ο προηγούμενος και ποιος ο επόμενος σε καθέναν από τους παρακάτω αριθμούς:

|       |     |       |  |       |     |       |  |       |     |       |
|-------|-----|-------|--|-------|-----|-------|--|-------|-----|-------|
| ..... | 270 | ..... |  | ..... | 350 | ..... |  | ..... | 990 | ..... |
| ..... | 800 | ..... |  | ..... | 700 | ..... |  | ..... | 999 | ..... |