


ΟΝΟΜΑ: \_\_\_\_\_

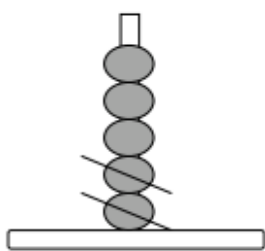
## ΜΑΘΗΜΑΤΙΚΑ 4<sup>η</sup> ΕΝΟΤΗΤΑ

### Κεφ.28: Αφαίρεση με αφαιρετέο μικρό αριθμό

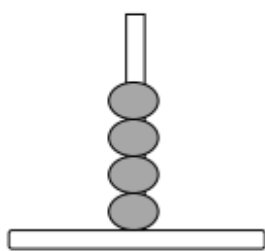
1. Μετρώ ανάποδα για να κατέβω τις σκάλες.



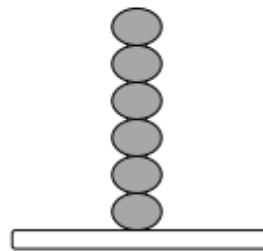
2. Κάνω τις παρακάτω πράξεις όπως το παράδειγμα.



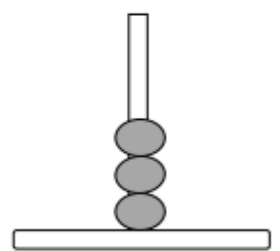
$5-2=3$



$4-2=$  \_\_\_\_\_




$6-3=$  \_\_\_\_\_



$3-1=$  \_\_\_\_\_

3. Λύνω το παρακάτω πρόβλημα.

Το δέντρο είχε **10 μήλα**. Έκοψα τα 3. Πόσα έμειναν;



ΛΥΣΗ

$\square = \square$

ΑΠΑΝΤΗΣΗ: Έμειναν \_\_\_\_\_ μήλα.

4. Σκέφτομαι και συμπληρώνω το πινακάκι.



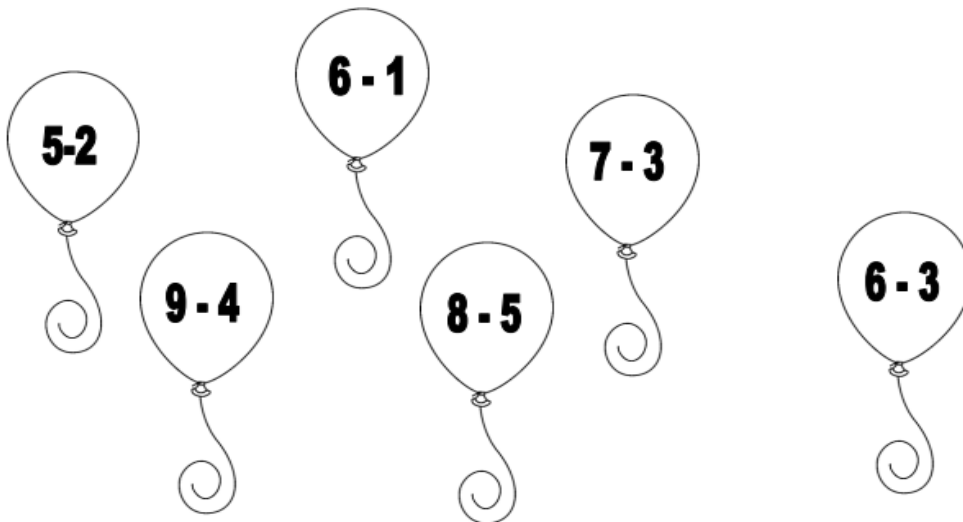
Μέσα στο καλάθι ήταν  
5 μυρμήγκια.  
Βγήκαν τα 3.  
Πόσα έμειναν μέσα;



Μέσα στο λεωφορείο ήταν  
8 παιδιά. Κατέβηκαν τα 2.  
Πόσα έμειναν μέσα;



5. Βάψω τα μπαλόνια με το χρώμα που ταιριάζει.



6. Κάνω τις παρακάτω πράξεις. Αν δυσκολεύομαι με βοηθούν τα ξυλάκια μου.

$$5-3= \underline{\quad}$$

$$7-3= \underline{\quad}$$

$$10-3= \underline{\quad}$$

$$7-1= \underline{\quad}$$

$$3-1= \underline{\quad}$$

$$10-1= \underline{\quad}$$

$$4-3= \underline{\quad}$$

$$8-3= \underline{\quad}$$

$$10-5= \underline{\quad}$$

$$8-2= \underline{\quad}$$

$$8-4= \underline{\quad}$$

$$10-2= \underline{\quad}$$

$$9-3= \underline{\quad}$$

$$6-3= \underline{\quad}$$

$$10-0= \underline{\quad}$$

$$6-5= \underline{\quad}$$

$$6-1= \underline{\quad}$$

$$10-10= \underline{\quad}$$

$$5-1= \underline{\quad}$$

$$9-1= \underline{\quad}$$

$$10-4= \underline{\quad}$$