


ΟΝΟΜΑ: _____
 ΗΜΕΡΟΜΗΝΙΑ: _____




ΜΑΘΗΜΑΤΙΚΑ 1^η ΕΝΟΤΗΤΑ
ΚΕΦ. 4: Πολλαπλασιασμός, προπαίδεια (|)

1. Χρωματίζω στα κουτάκια τους αριθμούς της προπαίδειας του 5:



1	2	3	4	5	6	7	8	9	10
11	12	13	14	15	16	17	18	19	20
21	22	23	24	25	26	27	28	29	30
31	32	33	34	35	36	37	38	39	40
41	42	43	44	45	46	47	48	49	50



2. Σκέφτομαι και συμπληρώνω την προπαίδεια του 2:

$3 \cdot 2 = \underline{\quad}$ $9 \cdot 2 = \underline{\quad}$ $4 \cdot 2 = \underline{\quad}$ $8 \cdot 2 = \underline{\quad}$ $1 \cdot 2 = \underline{\quad}$

$5 \cdot 2 = \underline{\quad}$ $6 \cdot 2 = \underline{\quad}$ $10 \cdot 2 = \underline{\quad}$ $2 \cdot 2 = \underline{\quad}$ $7 \cdot 2 = \underline{\quad}$

3. Χρωματίζω στα κουτάκια τους αριθμούς της προπαίδειας του 3:



1	2	3	4	5	6	7	8	9	10
11	12	13	14	15	16	17	18	19	20
21	22	23	24	25	26	27	28	29	30

4. Σκέφτομαι και συμπληρώνω την προπαίδεια του 4:

$3 \cdot 4 = \underline{\quad}$ $5 \cdot 4 = \underline{\quad}$ $8 \cdot 4 = \underline{\quad}$ $1 \cdot 4 = \underline{\quad}$ $2 \cdot 4 = \underline{\quad}$

$6 \cdot 4 = \underline{\quad}$ $9 \cdot 4 = \underline{\quad}$ $7 \cdot 4 = \underline{\quad}$ $4 \cdot 4 = \underline{\quad}$ $10 \cdot 4 = \underline{\quad}$

5. Μια γρήγορη επανάληψη της προπαίδειας του 5, του 2, του 10, του 3 και του 4.




•	3	6	9	4	5	2	1	10	7	8
5	15						5			


•	4	7	6	5	10	3	2	9	8	1
2						6				

•	3	7	5	6	9	10	4	8	1	2
10				60						





•	5	7	4	6	9	8	3	1	10	2
3			12							



•	5	7	3	8	4	10	6	9	2	1
4										4

6. α) Ανεβαίνω 4...4 και κατεβαίνω 4...4:

4	8									
40			28							

β) Ανεβαίνω 5...5 και κατεβαίνω 5...5:

5					30					
50			35							

γ) Ανεβαίνω 10...10 και κατεβαίνω 10...10:

10									90	
100			70							

δ) Ανεβαίνω 3...3 και κατεβαίνω 3...3:

3			12							
30			21							

ΠΡΟΒΛΗΜΑΤΑ

1. Έχουμε 4 γυάλες. Κάθε γυάλα έχει μέσα 5 ψαράκια. Πόσα είναι όλα τα ψαράκια;

2. Ένα σχολείο έχει 10 αίθουσες. Κάθε αίθουσα έχει 4 παράθυρα. Πόσα παράθυρα έχουν όλες οι αίθουσες;

3. Δέκα τρίγωνα πόσες γωνίες έχουν;

4. Ο γυμναστής έβαλε τα αγόρια της Γ' τάξης σε 5 τετράδες και τα κορίτσια σε 6 τριάδες. Πόσα είναι; α) τα αγόρια και β) τα κορίτσια της Γ' τάξης;

5. Ο Σωτήρης διαβάζει κάθε ημέρα 8 σελίδες από το αγαπημένο του βιβλίο. Σε 5 ημέρες πόσες σελίδες θα διαβάσει;
