



ΟΝΟΜΑ: _____

ΜΑΘΗΜΑΤΙΚΑ 1^η ΕΝΟΤΗΤΑ
Επαναληπτικές Ασκήσεις 2 (Κεφ. 1-8)

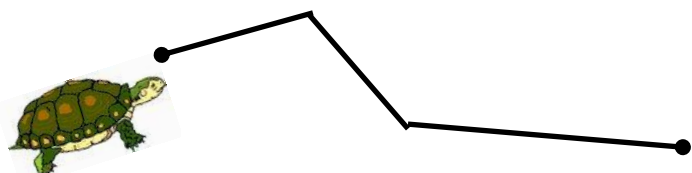
1. α) Συμπληρώνω τον πίνακα.

| Με λέξεις | Με κυβάρια | | Με ψηφία | Με άβακα | | |
|-----------|---|---|----------|----------|---|---|
| | Δ | Μ | | Ε | Δ | Μ |
| Δεκατρία | | | | | | |
| |  |  | | | | |
| | | | 38 | | | |
| | | | 46 | | | |

β) Βάζω τους παραπάνω αριθμούς από το μικρότερο στο μεγαλύτερο.

_____ < _____ < _____ < _____

2. Βρίσκω πόσα εκατοστά είναι η παρακάτω διαδρομή.



◆ Η διαδρομή έχει μήκος _____ εκ.

