

ΟΝΟΜΑ: \_\_\_\_\_

## ΜΑΘΗΜΑΤΙΚΑ 8<sup>η</sup> ΕΝΟΤΗΤΑ

### Επαναληπτικό: Κεφάλαια 45 - 50

1. Συμπληρώνω τον αριθμό στόχο.

120 + \_\_\_\_\_

1.000 - \_\_\_\_\_

530

( \_\_\_\_\_ × 100) + \_\_\_\_\_

( 6 × \_\_\_\_\_ ) - \_\_\_\_\_

2. Βρίσκω το αποτέλεσμα.

$2 \times 150 = \underline{\hspace{2cm}}$

$400 : 2 = \underline{\hspace{2cm}}$

$750 - 250 = \underline{\hspace{2cm}}$

$7 \times 70 = \underline{\hspace{2cm}}$

$600 - 300 = \underline{\hspace{2cm}}$



$2 \times 250 = \underline{\hspace{2cm}}$

$1.000 : 2 = \underline{\hspace{2cm}}$









$820 + 80 = \underline{\hspace{2cm}}$

$400 + 200 = \underline{\hspace{2cm}}$









$10 \times 100 = \underline{\hspace{2cm}}$

3. Υπολογίζω τα παρακάτω μοτίβα:

Αν  = 50 και  = 100

Τότε        

\_\_\_\_\_ + \_\_\_\_\_ + \_\_\_\_\_ + \_\_\_\_\_ + \_\_\_\_\_ + \_\_\_\_\_ + \_\_\_\_\_ + \_\_\_\_\_ = \_\_\_\_\_

Τότε        

\_\_\_\_\_ + \_\_\_\_\_ + \_\_\_\_\_ + \_\_\_\_\_ + \_\_\_\_\_ + \_\_\_\_\_ + \_\_\_\_\_ + \_\_\_\_\_ = \_\_\_\_\_

4. Λύνω τα παρακάτω προβλήματα:

**A.** Η Μικολέτα κάνει μάθημα τένις κάθε Παρασκευή απόγευμα στις 6 μ.μ.. Το μάθημα διαρκεί **μιάμιση ώρα**.

Ζωγραφίζω στους δείκτες του ρολογιού έτσι ώστε το αριστερό ρολόι να δείχνει την έναρξη του μαθήματος και το δεξί το τέλος του μαθήματος.

Έναρξη  
μαθήματος



Τέλος  
μαθήματος

**B.** Ο Αντώνης αγόρασε ένα πουκάμισο που έκανε 120 ευρώ και ένα ζευγάρι παπούτσια που κόστιζε 40 ευρώ **περισσότερο** από το πουκάμισο.

α. Πόσο στοιχίζουν τα παπούτσια; \_\_\_\_\_

β. Πόσα στοιχίζουν τα παπούτσια και το πουκάμισο μαζί;

\_\_\_\_\_

γ. Αν έκαναν έκπτωση στον Μιχάλη 25 ευρώ, πόσα ευρώ έδωσε για το πουκάμισο και τα παπούτσια μαζί; \_\_\_\_\_

**Γ.** Η κόκκινη ομάδα μπάσκετ έβαλε τους **τριητάσιους** πόντους από την πράσινη ομάδα. Αν η πράσινη ομάδα έβαλε 15 πόντους, πόσους πόντους έβαλε η κόκκινη ομάδα;

Υπολογίζω και απαντώ: