




ΟΝΟΜΑ: _____

ΜΑΘΗΜΑΤΙΚΑ 9^η ΕΝΟΤΗΤΑ

Επαναληπτικό: Κεφάλαια 51 - 54

1. Φτιάχνω με την βοήθεια του χάρακα δύο κάθετες ευθείες με κόκκινο χρώμα και δύο παράλληλες ευθείες με μπλε χρώμα.



2. Συμπληρώνω τις λέξεις ή τα ψηφία που λείπουν.

3.000	
-------	--

	χίλια
--	-------

8.000	
-------	--

	δέκα χιλιάδες
--	---------------

9.000	
-------	--

	επτά χιλιάδες
--	---------------

3. Λύνω το παρακάτω πρόβλημα:

Την περασμένη εβδομάδα η ταμίας έκοψε στο κινηματογράφο για την καινούρια κωμωδία της Ντίσνεϊ 80 εισιτήρια την Τετάρτη, 120 εισιτήρια την Πέμπτη, 350 εισιτήρια την Παρασκευή και το Σάββατο όσα την Παρασκευή. Αν όλα τα εισιτήρια που έκοψε όλη την εβδομάδα ήταν 1.000, μπορείς να υπολογίσεις πόσα εισιτήρια έκοψε την Κυριακή;

A. Οργανώνω τα δεδομένα μου στον πίνακα.

B. Υπολογίζω:

--

Ημέρες	Εισιτήρια
Σύνολο	

Γ. Απαντώ: _____