

ΟΝΟΜΑ: _____

ΜΑΘΗΜΑΤΙΚΑ 1^η ΕΝΟΤΗΤΑ

Επαναληπτικό: Κεφάλαια 1 - 8

1. Συμπληρώνω τον πίνακα.

ΜΕ Ψηφία	ΜΕ Λέξεις	ΜΕ Κυβάρια		ΜΕ Άβακα
		Δ	Μ	
36				
	σαράντα τέσσερα			

2. Βάζω τους αριθμούς της προηγούμενης άσκησης από τον μικρότερο στον μεγαλύτερο.

_____ < _____ < _____ < _____

3. Βρίσκω τον κανόνα και συμπληρώνω την αριθμοσειρά.

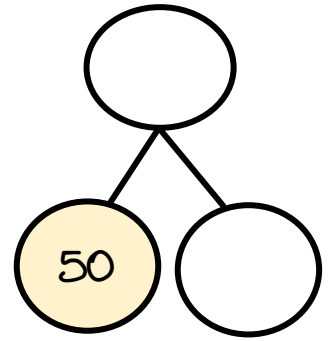
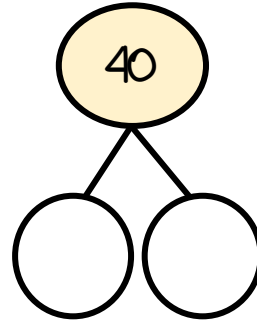
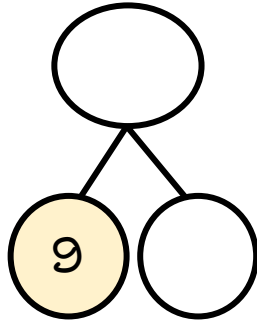
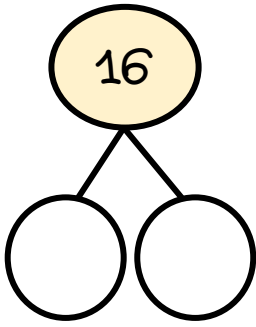
54, 56, _____, _____, _____, _____, _____, _____, _____, _____

4. Μετρώ με τον χάρακά μου και βρίσκω το μήκος της διαδρομής

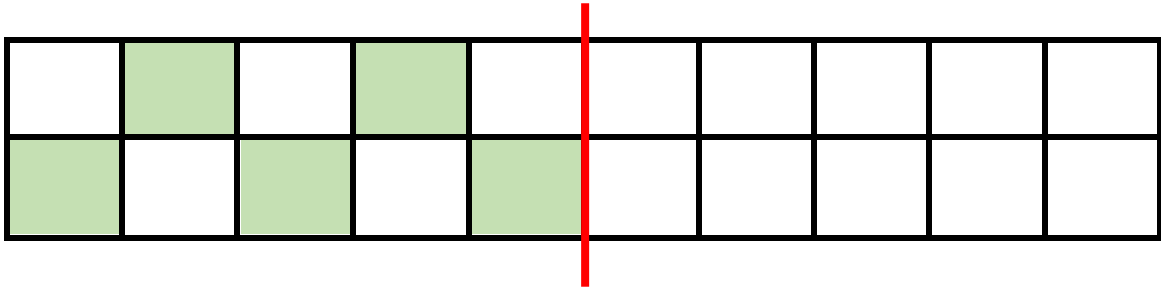


Μήκος = _____ εκατοστά

5. Βρισκω το μισό ή το ολόκληρο των παρακάτω αριθμών.



6. Βρισκω το συμμετρικό του σχήματος.



7. Κάνω τις παρακάτω πράξεις με όποιον τρόπο με βολεύει.

$$38 + 5 = \underline{\quad}$$

$$32 - 5 = \underline{\quad}$$

$$25 + \underline{\quad} = 29$$

$$60 - 20 - 5 = \underline{\quad}$$

$$30 + 10 + 5 = \underline{\quad}$$

$$37 - 8 = \underline{\quad}$$

$$40 + \underline{\quad} = 80$$

$$28 - 8 - 1 = \underline{\quad}$$

8. Λύνω το παρακάτω πρόβλημα:

Ο Κώστας έχει 14 γλειφιτζούρια. Έδωσε 4 γλειφιτζούρια στην Μαρία και 3 στον Γιώργο.



Πόσα γλειφιτζούρια έδωσε ο Κώστας στη Μαρία και στον Γιώργο μαζί;

Πόσα γλειφιτζούρια έμειναν στον Κώστα;
