

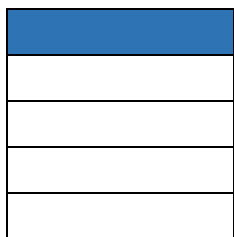
ΟΝΟΜΑ: _____

ΗΜΕΡΟΜΗΝΙΑ: _____

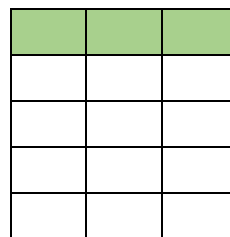
ΜΑΘΗΜΑΤΙΚΑ 4^η ΕΝΟΤΗΤΑ

ΚΕΦ.25: Ισοδύναμα Κλάσματα

1. Γράφω με κλάσμα τι μέρος κάθε σχήματος είναι χρωματισμένο. Ύστερα βρίσκω τα ισοδύναμα κλάσματα και γράφω τις ισότητες που σχηματίζονται.



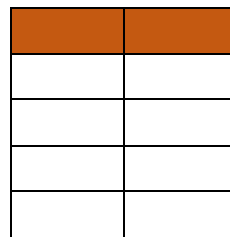
☞ _____




☞ _____




☞ _____



☞ _____



☞ _____

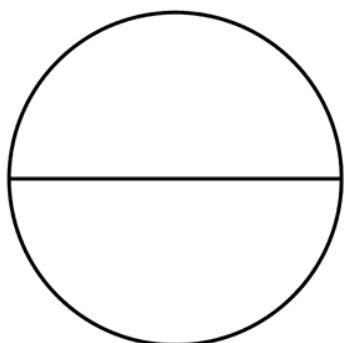


☞ _____

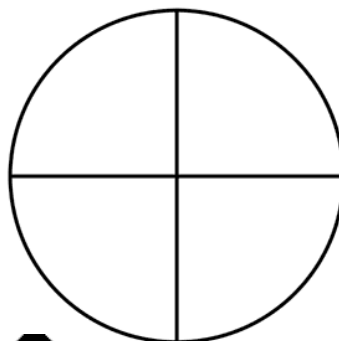
α. $\frac{\quad}{\quad} = \frac{\quad}{\quad} = \frac{\quad}{\quad}$

β. $\frac{\quad}{\quad} = \frac{\quad}{\quad} = \frac{\quad}{\quad}$

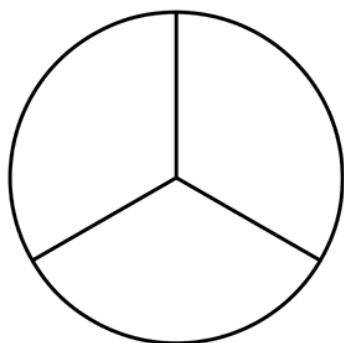
2. Χρωματίζω τα σχήματα ώστε να προκύπτουν τα ισοδύναμα κλάσματα που φαίνονται δίπλα από κάθε σχήμα και συμπληρώνω το σύμβολο της ισότητας(=).



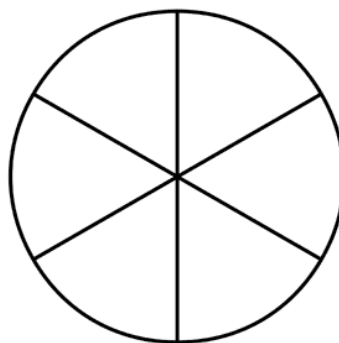
$$\frac{1}{2}$$



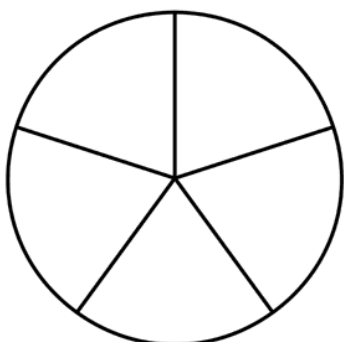
$$\frac{2}{4}$$



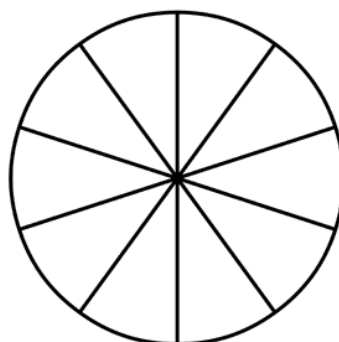
$$\frac{1}{3}$$



$$\frac{2}{6}$$



$$\frac{1}{5}$$



$$\frac{2}{10}$$