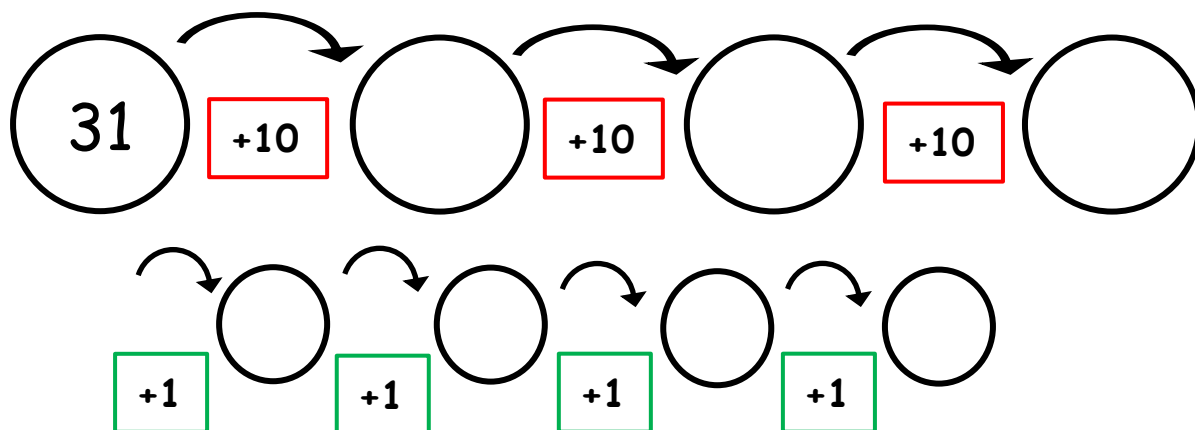


ΟΝΟΜΑ: _____

ΜΑΘΗΜΑΤΙΚΑ 2^η ΕΝΟΤΗΤΑ

Κεφ. 10: Φτιάχνω διψήφιους αριθμούς με προϋποθέσεις 1

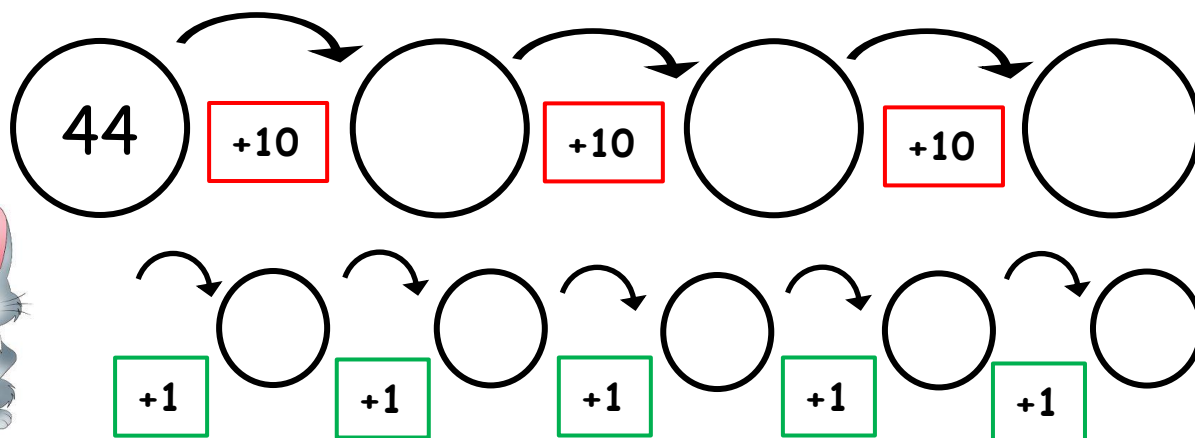
1. Ο λαγός θέλει να φτάσει στο 65. Πόσα μεγάλα πηδήματα και πόσα μικρά βηματάκια χρειάζεται να κάνει; Μπορείς να τον βοηθήσεις;



$$10+10+10+1+1+1+1=$$

$$31 + = 65$$

2. Ο λαγός θέλει να φτάσει στο 79. Πόσα μεγάλα πηδήματα και πόσα μικρά βηματάκια χρειάζεται να κάνει; Μπορείς να τον βοηθήσεις;

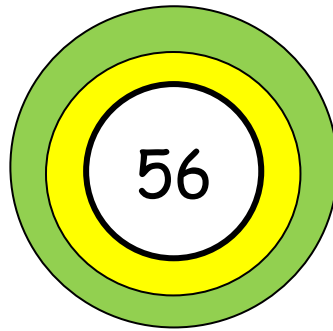


$$=$$

$$44 + = 79$$

3. Ενώνω κάθε βελάκι με μια γραμμή στο αριθμό στόχο που πρέπει να πετύχει.

$$50 + 6$$



$$80 - 8$$

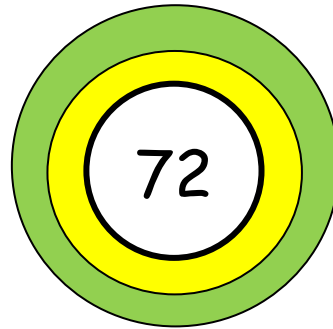
$$73 - 1$$

$$52 + 4$$

$$40 + 16$$

$$60 - 4$$

$$69 + 3$$



$$60 + 12$$

4. Συμπληρώνω τα κενά ώστε να φτάνω κάθε φορά στον αριθμό στόχο.

