

ΟΝΟΜΑ: _____


Μαθηματικά 3η Ενότητα

17. Οι αριθμοί από το 10 μέχρι το 20 (2)



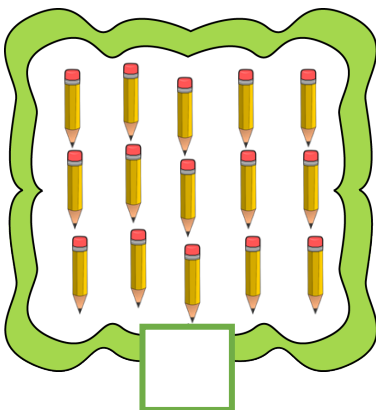
1. Γράφω και μαθαίνω τους αριθμούς από το 11 έως το 15.

11						
12						
13						
14						
15						

2. Γράφω τους αριθμούς από το 1 έως το 15.



3. Βρίσκω πόσα είναι τα αντικείμενα και γράφω το αριθμό.



4. Βρίσκω τον προηγούμενο και τον επόμενο αριθμό.

	14	
--	----	--

	10	
--	----	--

	12	
--	----	--