


ΟΝΟΜΑ: \_\_\_\_\_

## ΜΑΘΗΜΑΤΙΚΑ 3<sup>η</sup> ΕΝΟΤΗΤΑ

### Κεφ.19: Οι τακτικοί αριθμοί- Τα διπλά αθροίσματα 3

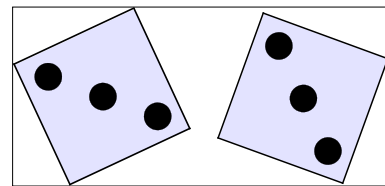
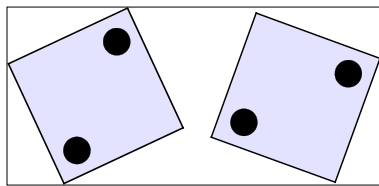
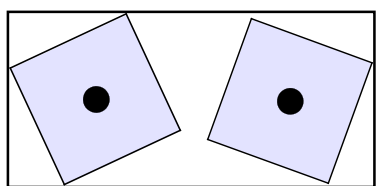
1. Ζωγραφίζω τα **μισά**. Έπειτα, γράφω πόσα είναι τα μισά στον κύκλο.



2. Τα μοιράζω εξίσου. Πόσα θα πάρει το κάθε ξωτικό; Ζωγραφίζω.



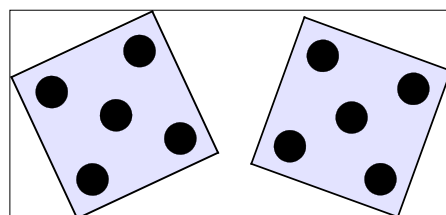
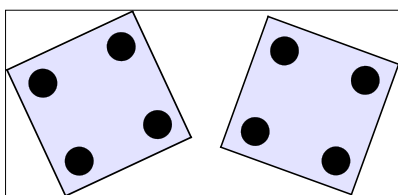
3. Συμπληρώνω τους αριθμούς και μαθαίνω απ'έξω.



Το μισό του **2** είναι \_\_\_\_\_

Το μισό του **4** είναι \_\_\_\_\_

Το μισό του **6** είναι \_\_\_\_\_



Το μισό του **8** είναι \_\_\_\_\_

Το μισό του **10** είναι \_\_\_\_\_