

ΟΝΟΜΑ: _____

ΜΑΘΗΜΑΤΙΚΑ 4^η ΕΝΟΤΗΤΑ
Κεφ.22 Εισαγωγή στα κλάσματα 1

1. Γράφω πώς ονομάζονται οι όροι του κλάσματος.







2. Γράφω πώς διαβάζονται τα παρακάτω κλάσματα, όπως το παράδειγμα.

$\frac{1}{2}$ _____
 $\frac{1}{3}$ _____
 $\frac{2}{4}$ _____
 $\frac{3}{5}$ _____

Το κλάσμα αυτό
διαβάζεται
ένα τέταρτο.



3. Γράφω με κλάσμα τα καρότα που μάζεψε κάθε φορά ο λαγός.



4. Βρίσκω το κλάσμα. Έπειτα περιγράφω με λόγια τι μου δείχνει το κάθε κλάσμα.

$$\frac{1}{4}$$



Από τα 4 μέρη έβασα το 1

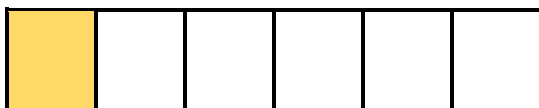
$$\frac{\quad}{\quad}$$



$$\frac{\quad}{\quad}$$



$$\frac{\quad}{\quad}$$



$$\frac{\quad}{\quad}$$