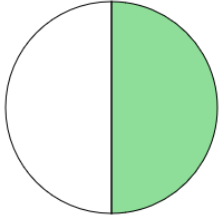


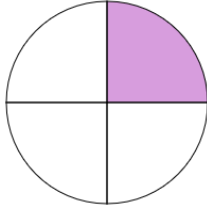
ΟΝΟΜΑ: \_\_\_\_\_

**ΜΑΘΗΜΑΤΙΚΑ 4<sup>η</sup> ΕΝΟΤΗΤΑ**  
**Κεφ.22 Εισαγωγή στα κλάσματα 2**

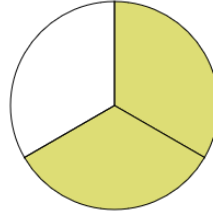
1. Γράφω το κατάλληλο κλάσμα, που δείχνει τι μέρος κάθε σχήματος είναι χρωματισμένο, όπως το παράδειγμα.



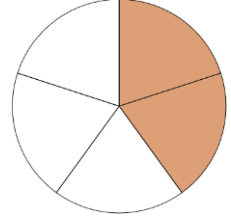
$$\frac{1}{2}$$



\_\_\_\_\_

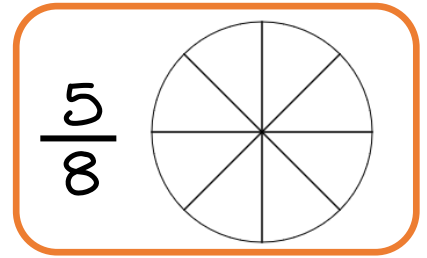
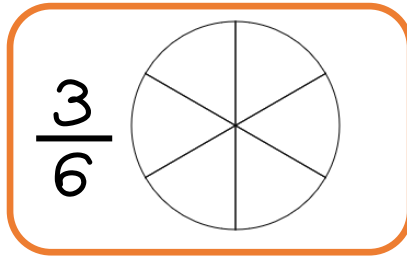
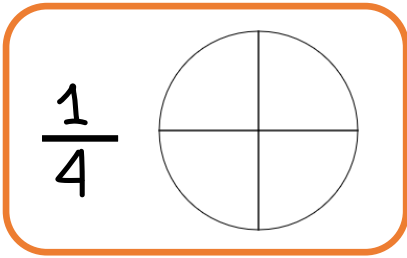


\_\_\_\_\_



\_\_\_\_\_

2. Χρωματίζω το μέρος της πίτας που μου δείχνει το κάθε κλάσμα.



3. Λύνω το παρακάτω πρόβλημα.


Η κυρία Γεωργία μοίρασε ισάξια την σοκολάτα που φαίνεται στην εικόνα στους εννιά μαθητές της.



Γράφω με κλάσμα πόσο κομμάτια θα πάρει ο κάθε μαθητής/μαθήτρια:



Κάθε παιδί θα πάρει το



της σοκολάτας.