

ΟΝΟΜΑ: _____


ΜΑΘΗΜΑΤΙΚΑ 4^η ΕΝΟΤΗΤΑ

Κεφ.25: Οι αριθμοί μέχρι το 50 (4)

1. Κυκλώνω 10-10 και βρίσκω πόσα είναι.



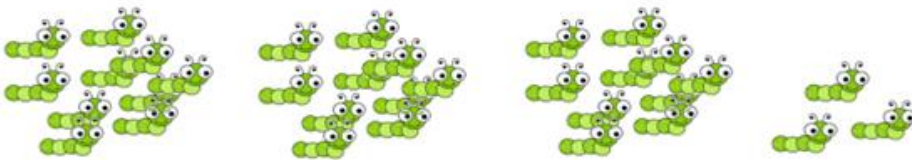
$$10 + 10 + 5 = \square$$



$$= \square$$



$$= \square$$



$$= \square$$

2. Κάθε καλάθι έχει 10 μήλα. Πόσα είναι όλα κάθε φορά;




$$\dots + \dots + \dots + \dots + \dots = \dots$$

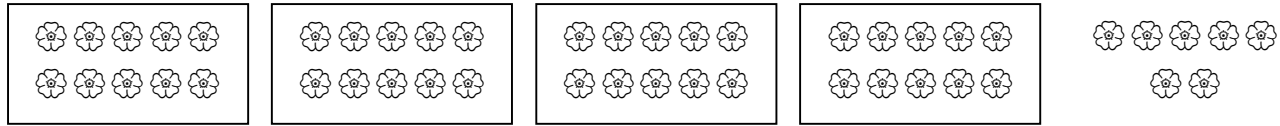


$$\dots + \dots + \dots + \dots = \dots$$

3. Βρίσκω Πόσα είναι όλα κάθε φορά;



..... + + + =

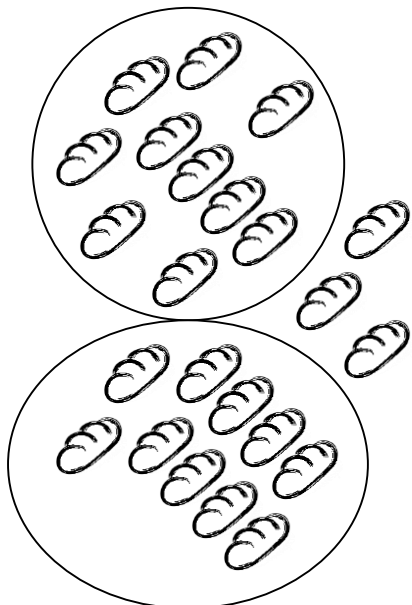


..... + + + + =



..... + + =

4. Πόσα είναι όλα κάθε φορά; Συνεχίζω, όπως στο παράδειγμα.



23

