


ΟΝΟΜΑ: _____


ΜΑΘΗΜΑΤΙΚΑ 1^η ΕΝΟΤΗΤΑ

Κεφ.2: Γεωμετρικά σχήματα

1. Ένωσε με μια γραμμή αυτά που μοιάζουν με τα γεωμετρικά σχήματα.




τετράγωνο



κύκλος

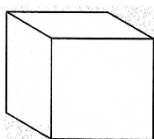
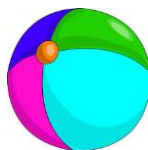


τρίγωνο

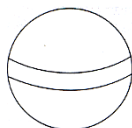


ορθογώνιο

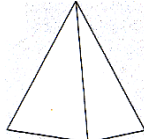
2. Ένωσε με μια γραμμή αυτά που μοιάζουν με τα γεωμετρικά στερεά.



κύβος



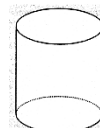
σφαίρα



πυραμίδα




ορθογώνιο




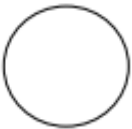


κύλινδρος

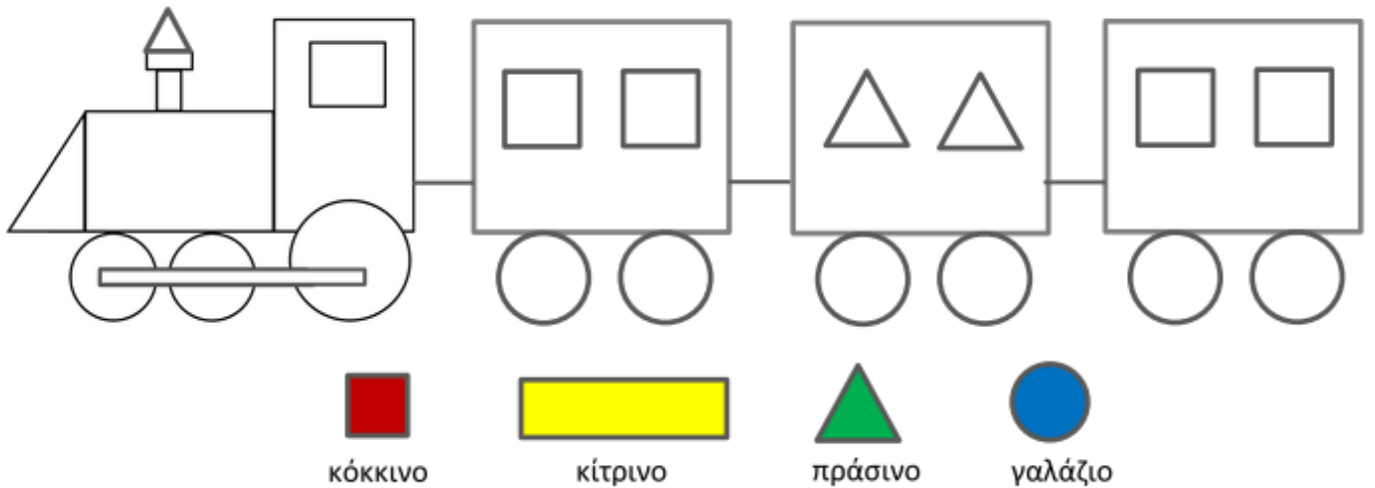
3. Χρωμάτισε όσα σχήματα είναι ίδια με το αρχικό.



4. Σχεδιάσε τα σχήματα κάθε στήλης.

5. Ζωγράφισε το τρενάκι με τα αντίστοιχα χρώματα.



6. Χρωμάτισε με το ίδιο χρώμα τα ίδια σχήματα που βρίσκεις σε κάθε σχέδιο.

