



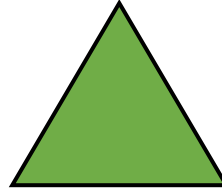
ΟΝΟΜΑ: _____


ΜΑΘΗΜΑΤΙΚΑ 1^η ΕΝΟΤΗΤΑ
Κεφ.3 Γεωμετρικά σχήματα και στερεά σώματα


1. Γράψω τα ονόματα των παρακάτω γεωμετρικών σχημάτων.















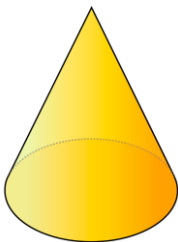


2. Γράψω τα ονόματα των παρακάτω στερεών σωμάτων.

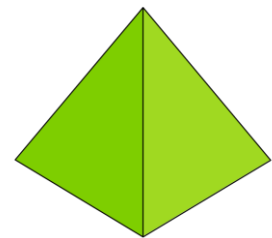










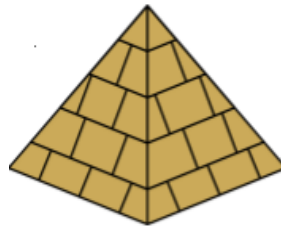


3. Γράφω μέσα στο κάθε κουτάκι το όνομα του γεωμετρικού στερεού που αντιστοιχεί στο κάθε αντικείμενο.





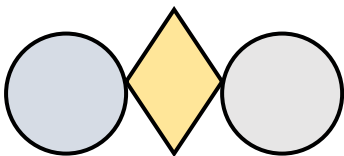








4. Περιγράψω τις εικόνες, όπως το παράδειγμα.



Ένας ρόμβος ανάμεσα σε δύο κύκλους



