

ΟΝΟΜΑ: \_\_\_\_\_

## ΜΑΘΗΜΑΤΙΚΑ 6<sup>η</sup> ΕΝΟΤΗΤΑ

Κεφ. 36 Υπολογίζω ένα αποτέλεσμα και ελέγχω  
με κάθετη αφαίρεση με δανεικό (β) 3

Οι Όροι της  
αφαίρεσης

$$\begin{array}{r} 56 \\ - 43 \\ \hline 13 \end{array}$$

μειωτέος

αφαιρετέος

διαφορά



Αφαιρίξ τι  
είναι η  
επαλήθευση;

Επαλήθευση  
κάνουμε όταν  
θέλουμε να  
ελέγξουμε αν η  
πράξη που κάναμε  
είναι σωστή.

Υπάρχουν δύο τρόποι επαλήθευσης  
στην αφαίρεση.



Αγαπίξ

### 1<sup>ος</sup> τρόπος

#### ΜΕ ΠΡΟΣΘΕΣΗ

Προσθέτω τον αφαιρετέο  
και τη διαφορά και πρέπει  
να βρω το μειωτέο.

$$\begin{array}{r} 43 \\ + 13 \\ \hline 56 \end{array}$$

### 2<sup>ος</sup> τρόπος


#### ΜΕ ΑΦΑΙΡΕΣΗ

Αφαιρώ από το μειωτέο  
τη διαφορά και πρέπει να  
βρω τον αφαιρετέο.


$$\begin{array}{r} 56 \\ - 13 \\ \hline 43 \end{array}$$

1. Βρίσκω τη διαφορά στις παρακάτω αφαιρέσεις. Έπειτα κάνω επαλήθευση με τον 1<sup>ο</sup> τρόπο (με πρόσθεση).


$$\begin{array}{r} 65 \\ - 38 \\ \hline \end{array}$$




$$\begin{array}{r} 43 \\ - 27 \\ \hline \end{array}$$



$$\begin{array}{r} 82 \\ - 14 \\ \hline \end{array}$$




$$\begin{array}{r} 77 \\ - 59 \\ \hline \end{array}$$




2. Βρίσκω τη διαφορά στις παρακάτω αφαιρέσεις. Έπειτα κάνω επαλήθευση με τον 2<sup>ο</sup> τρόπο (με αφαίρεση).


$$\begin{array}{r} 18 \\ - 9 \\ \hline \end{array}$$




$$\begin{array}{r} 93 \\ - 12 \\ \hline \end{array}$$



$$\begin{array}{r} 100 \\ - 64 \\ \hline \end{array}$$



$$\begin{array}{r} 55 \\ - 28 \\ \hline \end{array}$$



3. Βρίσκω τη διαφορά στην παρακάτω αφαίρεση. Έπειτα κάνω επαλήθευση και με τους δύο τρόπους.



$$\begin{array}{r} 76 \\ - 48 \\ \hline \end{array}$$

