
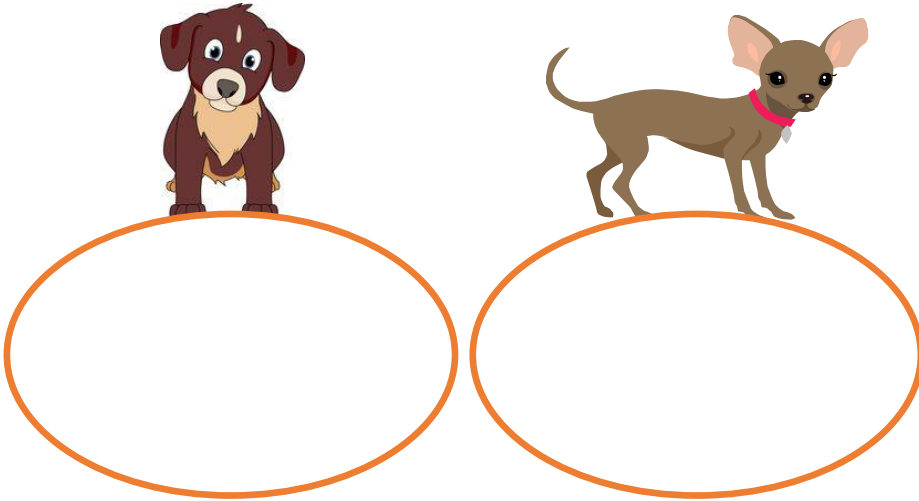


ΟΝΟΜΑ: \_\_\_\_\_

## ΜΑΘΗΜΑΤΙΚΑ 1<sup>η</sup> ΕΝΟΤΗΤΑ

### Κεφ. 3: Λύνω προβλήματα με ζωγραφική και παιχνίδια


1. Ο Φώτης θέλει να μοιράσει δίκαια 6 κόκαλα σε δύο σκύλους.  
Πόσα κόκαλα πρέπει να δώσει στον καθένα;



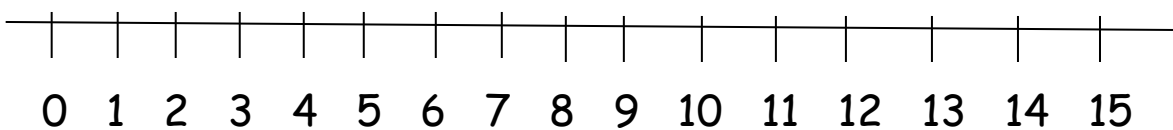
2. Ο παππούς της Νατάσας, έχει ένα περιβόλι με 27 μηλιές.  
Πόσες πρέπει να φυτέψει ακόμη, ώστε να έχει:

α) 30 μηλιές: \_\_\_\_\_

β) 35 μηλιές: \_\_\_\_\_



3. Ο Χάρης έχει 12 αυτοκινητάκια. Ο Μηνάς έχει 4 αυτοκινητάκια λιγότερα από το Χάρη. Πόσα αυτοκινητάκια έχει ο Μηνάς; (Δείχνω στην αριθμογραμμή)



Απάντηση: \_\_\_\_\_