


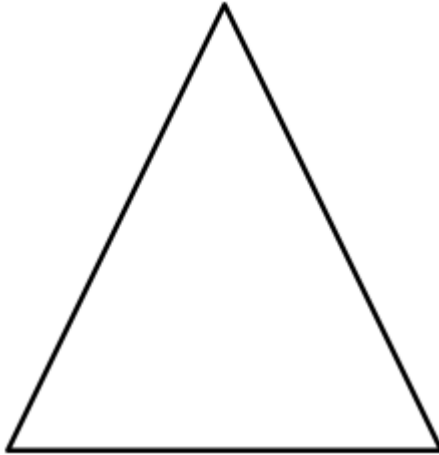



ΟΝΟΜΑ: _____

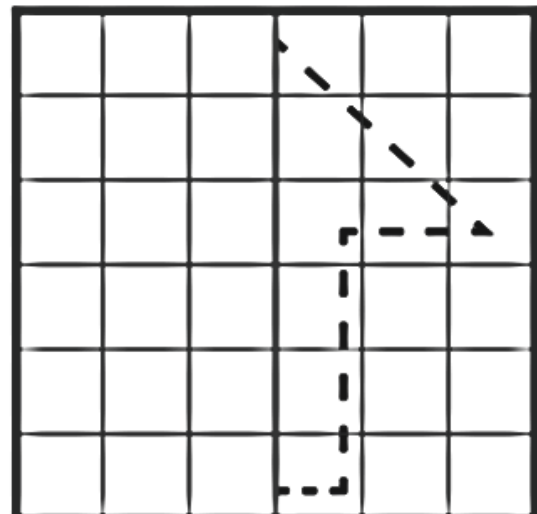
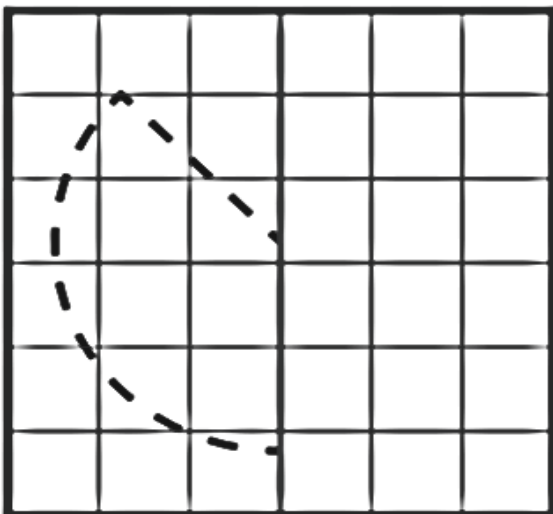
ΜΑΘΗΜΑΤΙΚΑ 7^η ΕΝΟΤΗΤΑ

Κεφ.43 Η συμμετρία

1. Φέρνω με τη βοήθεια του χάρακα τους άξονες συμμετρίας στα παρακάτω σχήματα. Προσοχή μπορεί να υπάρχουν παραπάνω από ένας άξονες.



2. Συμπληρώνω τα παρακάτω σχήματα, ώστε να γίνουν συμμετρικά.



© Copyright Itsy Bitsy Fun |

3. Συμπληρώνω το υπόλοιπο μισό της εικόνας.

