

ΟΝΟΜΑ: _____

ΜΑΘΗΜΑΤΙΚΑ 7^η ΕΝΟΤΗΤΑ

43. Φτιάχνω τριψήφιους αριθμούς και τους συγκρίνω

1. Βρίσκω τον κανόνα και συνεχίζω τις αριθμητικές αλυσίδες.

3, 103, _____, _____, _____, _____, _____, _____, _____

Εξηγώ τον κανόνα: Ανεβαίνω _____

900, 850, _____, _____, _____, _____, _____, _____, _____

Εξηγώ τον κανόνα: _____

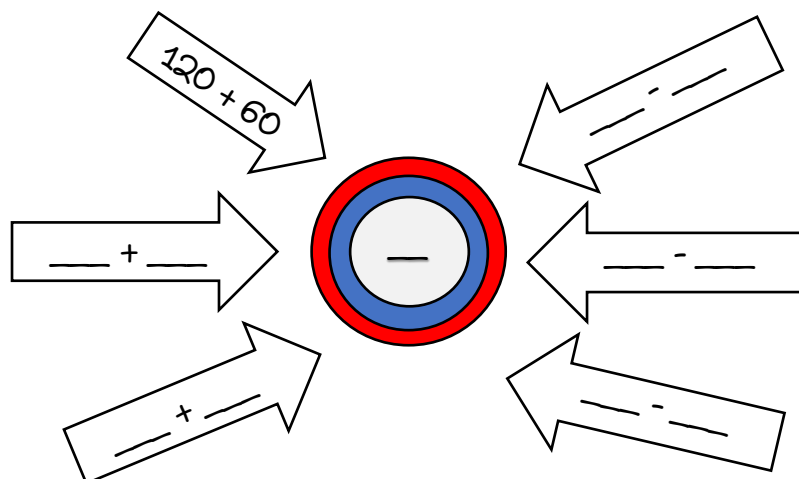
415, 420, _____, _____, _____, _____, _____, _____, _____

Εξηγώ τον κανόνα: _____


300, 299, _____, _____, _____, _____, _____, _____, _____

Εξηγώ τον κανόνα: _____

2. Βρίσκω τον αριθμό στόχο και έπειτα προτείνω και εγώ λύσεις.



3. Φτιάχνω όσους περισσότερους τριψήφιους αριθμούς μπορώ με τα παρακάτω ψηφία.

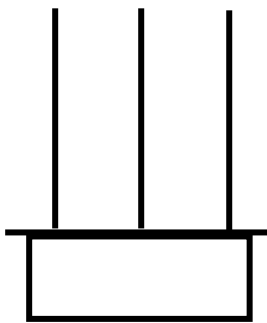


4. Τοποθετώ τους αριθμούς της άσκησης 3 από τον μεγαλύτερο στο μικρότερο, χρησιμοποιώντας ανάμεσα το σημαδάκι $>$.

5. Διαλέγω έναν από τους αριθμούς της άσκησης 3 και τον σχηματίζω στον άβακα. Έπειτα σχηματίζω τους υπόλοιπους αριθμούς σύμφωνα με τις οδηγίες.

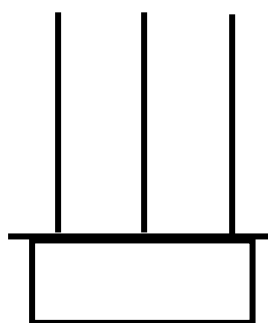
Διαλέγω τον αριθμό

Ε Δ Μ



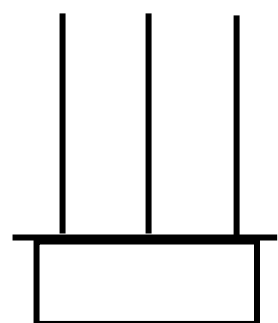
Προσθέτω 100

Ε Δ Μ



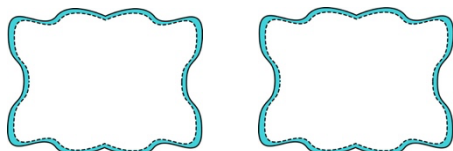
Αφαιρώ 10

Ε Δ Μ



6. Γράφω δύο τριψήφιους αριθμούς που να έχουν:

Το ψηφίο 2 στις Εκατοντάδες



Το ψηφίο 6 στις Δεκάδες

