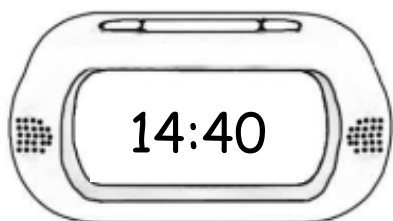


ΟΝΟΜΑ: _____

ΜΑΘΗΜΑΤΙΚΑ 8^η ΕΝΟΤΗΤΑ
Κεφ.49 Μέτρηση του χρόνου 3

1. Γράφω τι ώρα δείχνουν τα παρακάτω ψηφιακά ρολόγια, όπως το παράδειγμα.



14:40

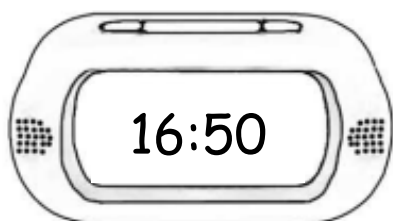
δύο και
σαράντα



11:00



22:15



16:50



2:30



00:10



π.μ. = πριν το μεσημέρι
(δηλαδή από τις δώδεκα τα μεσάνυχτα μέχρι και τις δώδεκα το μεσημέρι)

μ.μ. = μετά το μεσημέρι
(δηλαδή από τις δώδεκα το μεσημέρι μέχρι και τις δώδεκα τα μεσάνυχτα)

2. Μετατρέπω την ώρα από το αναλογικό στο ψηφιακό ρολόι.

Αναλογικό ρολόι	Ψηφιακό ρολόι		Αναλογικό ρολόι	Ψηφιακό ρολόι
1 π.μ.	1:00		1 μ.μ.	13:00
2 π.μ.			2 μ.μ.	
3 π.μ.			3 μ.μ.	
4 π.μ.			4 μ.μ.	
5 π.μ.			5 μ.μ.	
6 π.μ.			6 μ.μ.	
7 π.μ.			7 μ.μ.	
8 π.μ.			8 μ.μ.	
9 π.μ.			9 μ.μ.	
10 π.μ.			10 μ.μ.	
11 π.μ.			11 μ.μ.	
12 π.μ.			12 μ.μ.	00:00
π.μ. = πριν το μεσημέρι			μ.μ. = μετά το μεσημέρι	

3. Γράφω την ψηφιακή ώρα στα παρακάτω ρολόγια.




π.μ.


ή

μ.μ.

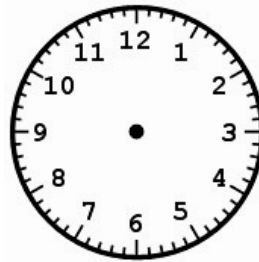
4. Βάζω τους δείκτες στα παρακάτω ρολόγια.




19:55




03:05




10:45



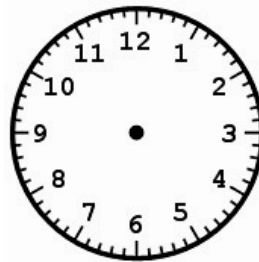
16:20




00:05




21:30




9:40



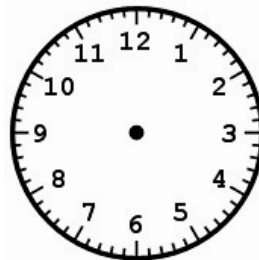
18:25




13:10



07:15



23:00



14:50

5. Λύνω το παρακάτω πρόβλημα:

Η Αναστασία παρακολούθησε μια θεατρική παράσταση χθες το βράδυ στις 21:00. Η παράσταση διήρκεσε 2 ώρες και 5 λεπτά.

α) Η παράσταση ήταν πρωινή ή βραδινή; _____

:

β) Τι ώρα τελείωσε η θεατρική παράσταση;