

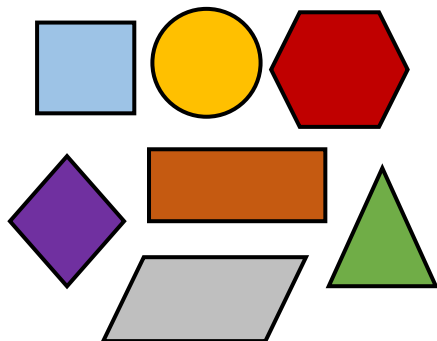
ΟΝΟΜΑ: _____

ΜΑΘΗΜΑΤΙΚΑ 9^η ΕΝΟΤΗΤΑ

Κεφ. 54 Επαναληπτικό μάθημα στη γεωμετρία

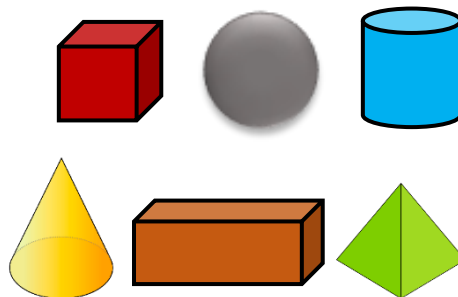
1. Γράφω τα γεωμετρικά σχήματα και γεωμετρικά στερεά των παρακάτω εικόνων.

Γεωμετρικά Σχήματα



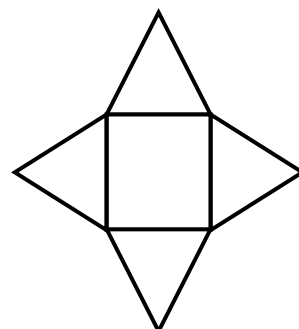

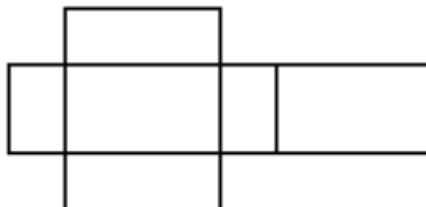
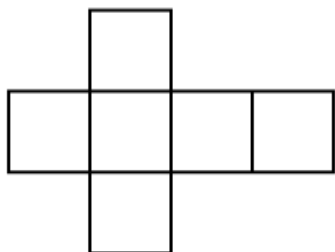
1. _____
2. _____
3. _____
4. _____
5. _____
6. _____
7. _____

Γεωμετρικά Στερεά

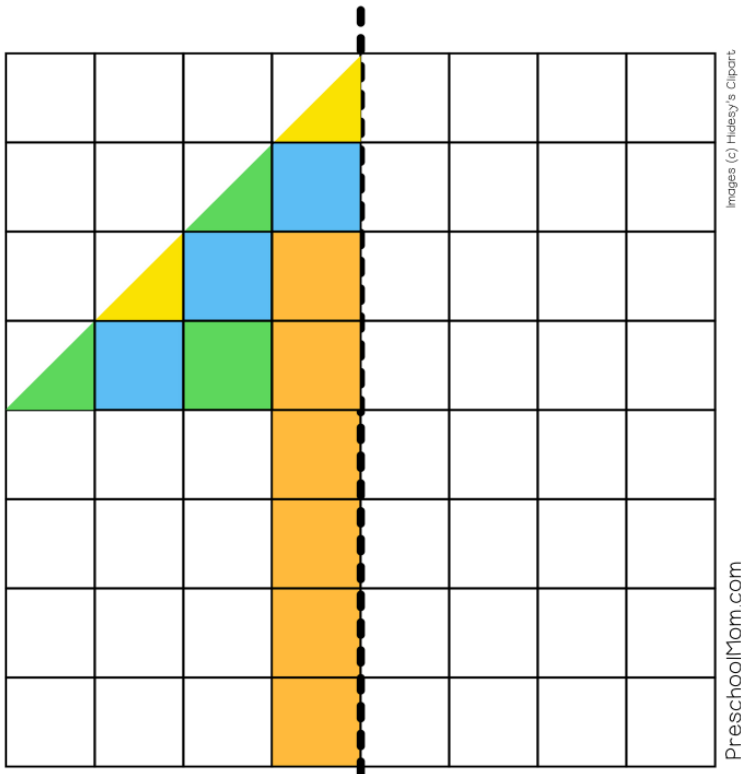


1. _____
2. _____
3. _____
4. _____
5. _____
6. _____

2. Γράφω τα γεωμετρικά στερεά στα οποία ανήκουν τα παρακάτω αναπτύγματα.



3. Σχεδιάζω το συμμετρικό του παρακάτω σχήματος.



Η διακεκομμένη γραμμή στη μέση ονομάζεται **άξονας συμμετρίας**.



4. Ακολουθώ τις οδηγίες και σχεδιάζω στο παρακάτω κενό πλαίσιο.

	<ol style="list-style-type: none">1) Σχεδιάστε με τη βοήθεια του χάρακά σας ένα ευθύγραμμο τμήμα 5 εκατοστά.2) Ονομάστε το ευθύγραμμο τμήμα που δημιουργήσατε ΑΒ3) Φέρτε ακόμα ένα ευθύγραμμο τμήμα παράλληλο με το ευθύγραμμο τμήμα ΑΒ και ονομάστε το όπως θέλετε εσείς, χρησιμοποιώντας δύο γράμματα της αλφαβήτας.4) Σχεδιάστε έναν κύκλο με τον διαβήτη σας με ακτίνα 3 εκ. και κέντρο Ο.5) Σχηματίστε δύο κάθετες μεταξύ τους ευθείες και βρείτε που σχηματίζονται ορθές γωνίες.
--	--