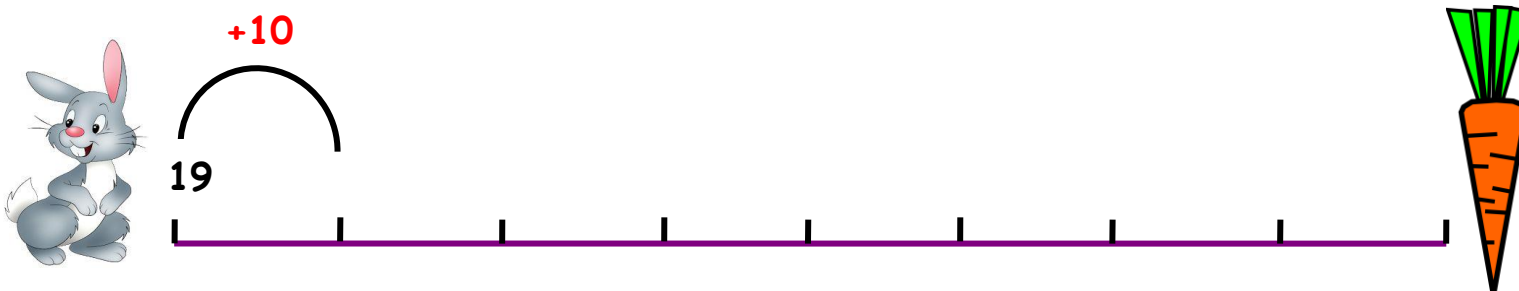
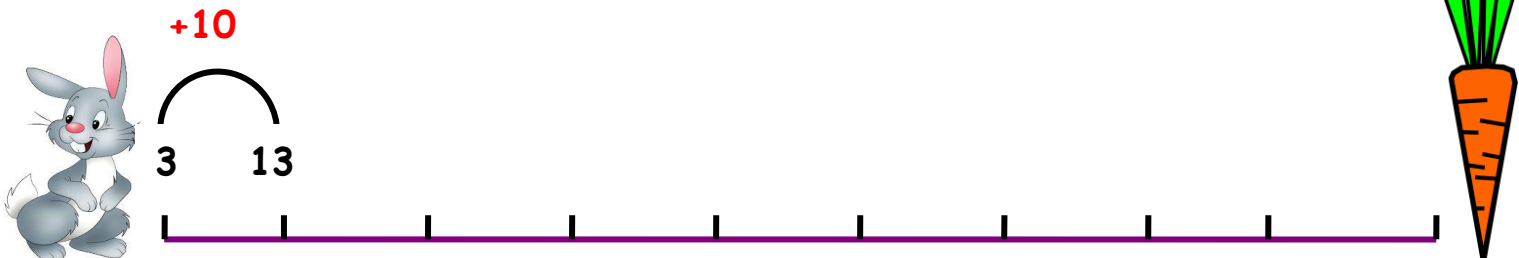


ΟΝΟΜΑ: \_\_\_\_\_


## ΜΑΘΗΜΑΤΙΚΑ 1<sup>η</sup> ΕΝΟΤΗΤΑ

### Κεφ. 6: Βρίσκω την αξία των ψηφίων στους διψήφιους αριθμούς 2

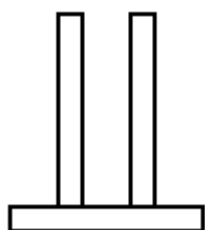
1. Ο λαγός πηδάει 10-10. Βοήθησε τον να πιάσει το καρότο.



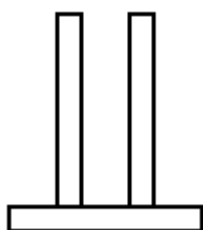
2. Τώρα βοήθησε τον να γυρίσει πίσω. Θυμήσου πηδάει 10-10.



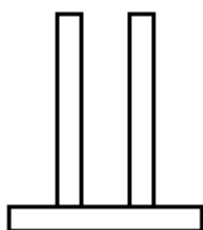
3. Συμπληρώνω τους παρακάτω άβακες.



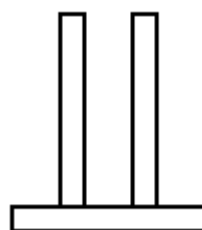
19



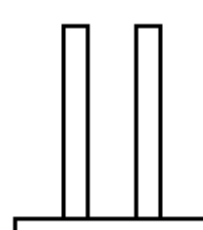
52



36



44



20

4. Βρίσκω ποιος είναι ο αριθμός κάθε φορά.

4 Δ και 5 Μ : \_\_\_\_\_

9 Δ και 4 Μ : \_\_\_\_\_

3 Δ και 9 Μ : \_\_\_\_\_

5 Δ και 6 Μ : \_\_\_\_\_

1 Δ και 3 Μ : \_\_\_\_\_

2 Δ και 1 Μ : \_\_\_\_\_

**Θυμάμαι:**

Όταν λέμε το όνομα ενός διψήφιου αριθμού πρώτα ακούγονται οι Δεκάδες και μετά οι Μονάδες.

Π.χ. 9 Δ και 3 Μ είναι ο αριθμός 93



5. Συμπληρώνω τον πίνακα με τους αριθμούς από το 1 ως το 100.

1	2	3	4	5					
11	12								
21									

1. Βάφω με κίτρινη ξυλομπογιά όλους τους αριθμούς που έχουν το 7 στις Δεκάδες.

2. Βάφω με πορτοκαλί ξυλομπογιά όλους τους αριθμούς που έχουν το 2 στις Δεκάδες.

3. Βάφω με κόκκινη ξυλομπογιά όλους τους αριθμούς που έχουν το 5 στις Μονάδες.

4. Βάφω με μπλε ξυλομπογιά όλους τους αριθμούς που έχουν το 8 στις Μονάδες.