


ΟΝΟΜΑ: _____

ΜΑΘΗΜΑΤΙΚΑ 1^η ΕΝΟΤΗΤΑ

Κεφ. 7: Βρίσκω το μισό και το ολόκληρο 1

1. Παρατηρώ το ολόκληρο και βρίσκω το μισό του.



Όλα είναι _____

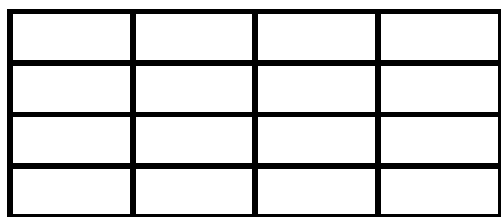

Τα μισά είναι _____



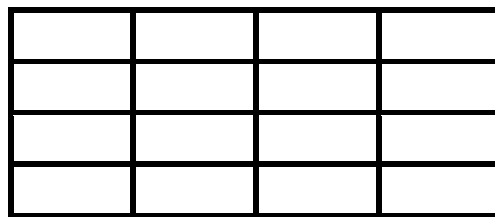
Όλα είναι _____

Τα μισά είναι _____

2. Η Μαρία έχει να μοιράσει μια σοκολάτα με δύο τρόπους. Μπορείς να τη βοηθήσεις να βρει το μισό; Χρωματίζω με καφέ το μισό κάθε σοκολάτας.

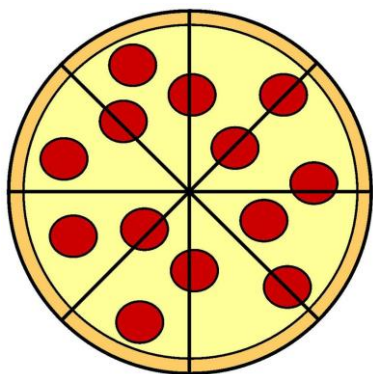


1^{ος} τρόπος



2^{ος} τρόπος

3. Βοήθησε τώρα την Μαρία να μοιράσει την πίτσα σε 2 φίλους της. Πόσα κομμάτια θα φάει ο καθένας;



Όλα τα κομμάτια είναι _____

Ο κάθε φίλος θα πάρει από _____ κομμάτια.

4. Υπολογίζω το αποτέλεσμα. Μαθαίνω πολύ καλά όλα τα διπλά αθροίσματα.

$$1 + 1 =$$

$$2 + 2 =$$

$$3 + 3 =$$

$$4 + 4 =$$

$$5 + 5 =$$

$$6 + 6 =$$

$$7 + 7 =$$

$$8 + 8 =$$

$$9 + 9 =$$

$$10 + 10 =$$

$$20 + 20 =$$

$$30 + 30 =$$

$$40 + 40 =$$

$$50 + 50 =$$



1. Κύκλωσε τον αριθμό που βρήκες.
2. Χρωμάτισε τον αριθμό πριν τον ίσον.
Τι παρατηρείς;