
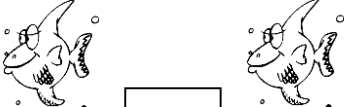






ΟΝΟΜΑ: _____

ΜΑΘΗΜΑΤΙΚΑ 1^η ΕΝΟΤΗΤΑ
Κεφ.8: Επαναληπτικό Μάθημα 1

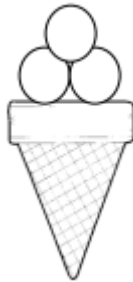
1. Μετρώ και γράφω πόσα είναι.

 <input type="text"/>	 <input type="text"/>
 <input type="text"/>	 <input type="text"/>
 <input type="text"/>	 <input type="text"/>

2. Βάζω όσες μπάλες πρέπει για να έχει κάθε χωνάκι τέσσερις (4) μπάλες.



2 και _____ μας κάνουν 4



3 και _____ μας κάνουν 4



1 και _____ μας κάνουν 4

3. Συμπληρώνω τους αριθμούς που λείπουν.

