



ΟΝΟΜΑ: \_\_\_\_\_

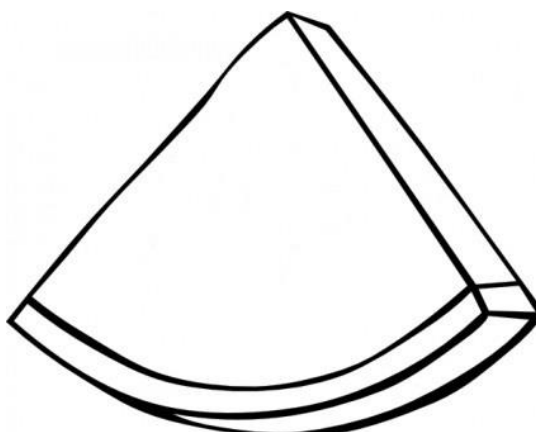
## ΜΑΘΗΜΑΤΙΚΑ 2<sup>η</sup> ΕΝΟΤΗΤΑ

### Κεφ. 9: Βρίσκω το μισό και το διπλάσιο στους αριθμούς 0-100 (1)

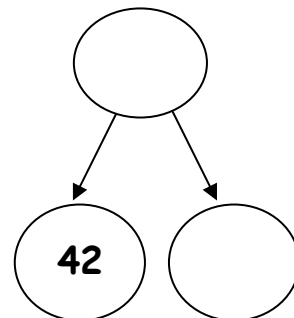
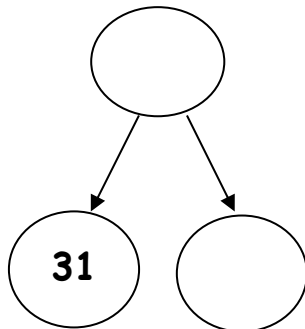
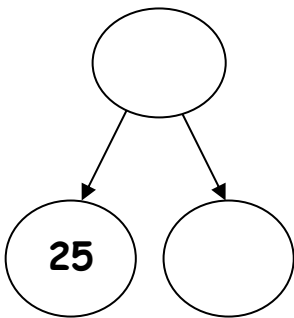
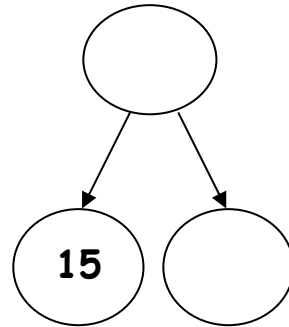
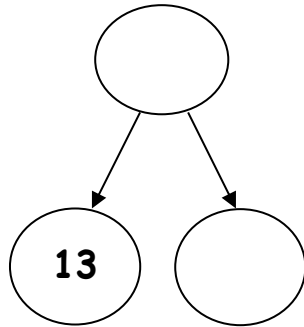
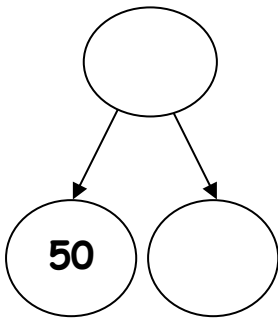
1. Ο Πέτρος έφαγε 12 γλυκά. Ο Μάριος έφαγε τα διπλάσια. Πόσα γλυκά έφαγε ο Μάριος; Ζωγράφισε τα.


$$\begin{array}{ccc} 12 & + & 12 \\ \swarrow & & \swarrow \\ \boxed{10 + 2} & & \boxed{10 + 2} \\ \downarrow & \swarrow & \downarrow \\ \boxed{10 + 10} & & \boxed{2 + 2} \\ \downarrow & \swarrow & \downarrow \\ \underline{\quad} + \underline{\quad} = \underline{\quad} \end{array}$$


2. Μια φέτα καρπούζι έχει 24 κουκούτσια. Μια δεύτερη φέτα έχει τα διπλάσια. Πόσα κουκούτσια έχει η δεύτερη φέτα; Ζωγράφισέ τα.

$$\begin{array}{ccc} 24 & + & \underline{\quad} \\ \swarrow & & \swarrow \\ \boxed{\_ + \_} & & \boxed{\_ + \_} \\ \downarrow & \swarrow & \downarrow \\ \boxed{\_ + \_} & & \boxed{\_ + \_} \\ \downarrow & \swarrow & \downarrow \\ \underline{\quad} + \underline{\quad} = \underline{\quad} \end{array}$$


3. Βρίσκω το διπλάσιο κάθε φορά.



4. Λύνω το παρακάτω πρόβλημα:

Οι μαθητές της Β' τάξης είναι χωρισμένοι σε δυο τμήματα, το Β<sub>1</sub> και το Β<sub>2</sub>, που έχουν ίσο αριθμό μαθητών. Το Β<sub>1</sub> έχει 16 μαθητές. Πόσους μαθητές έχει συνολικά η Β' τάξη;

ΛΥΣΗ:

ΖΩΓΡΑΦΙΖΩ:

ΑΠΑΝΤΗΣΗ:

---

---