


ΟΝΟΜΑ: \_\_\_\_\_

## ΜΑΘΗΜΑΤΙΚΑ 2<sup>η</sup> ΕΝΟΤΗΤΑ

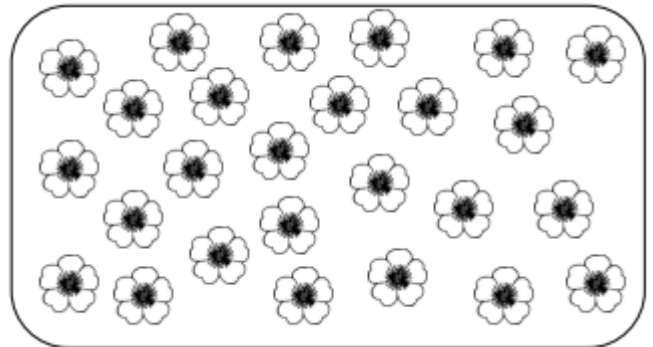
### Κεφ.9: Βρίσκω το μισό και το διπλάσιο στους αριθμούς 0-100 (2)

1. Ζωγραφίζω τα μισά κάθε φορά.



Όλα είναι: \_\_\_\_\_

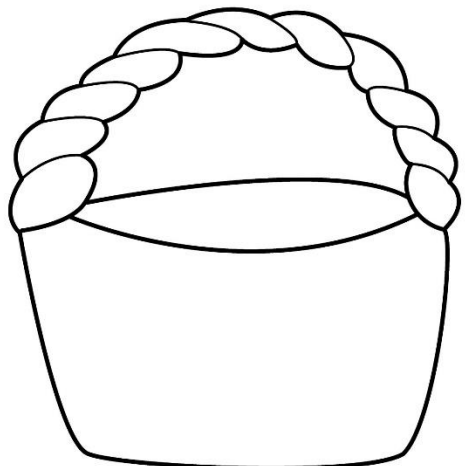
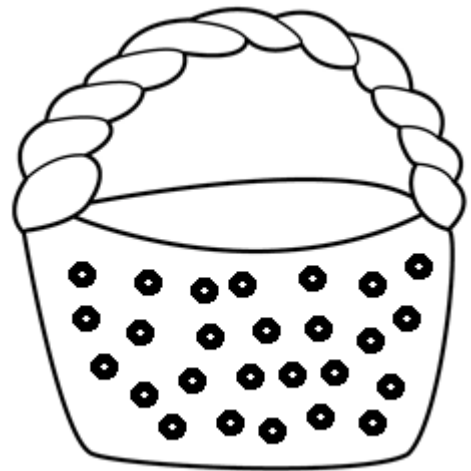
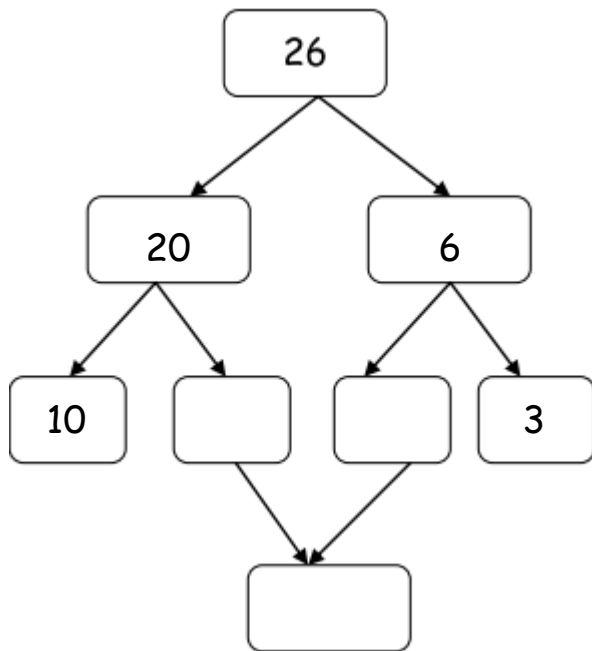
Τα μισά είναι: \_\_\_\_\_



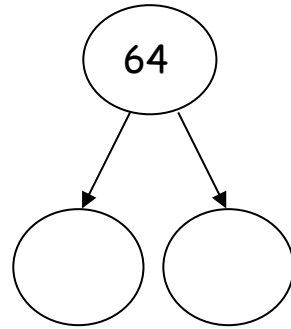
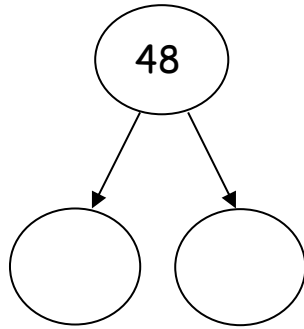
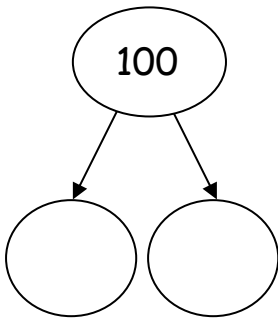
Όλα είναι: \_\_\_\_\_

Τα μισά είναι: \_\_\_\_\_

2. Η Αριάδνη έχει ένα καλάθι με 26 πορτοκάλια. Ο Χρήστος έχει ένα καλάθι με ακριβώς τα μισά. Πόσα πορτοκάλια έχει ο Χρήστος; Ζωγράφισέ τα.



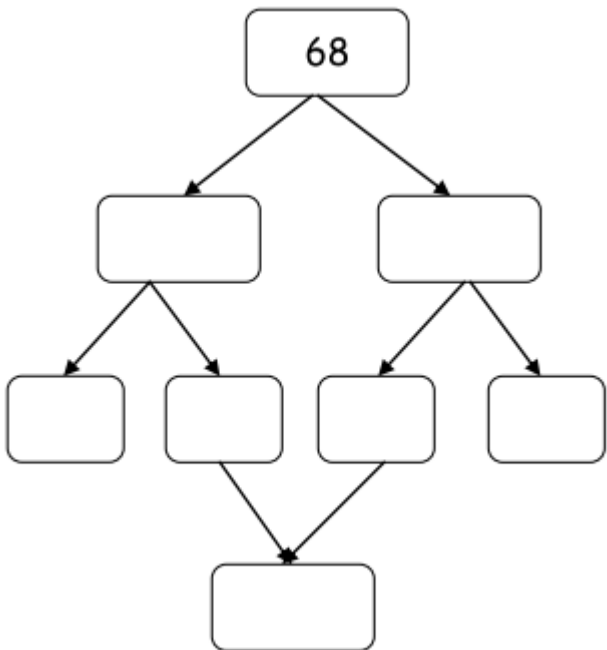
3. Βρίσκω το **μισό** κάθε φορά.



4. Λύνω τα παρακάτω προβλήματα:

1. Στα σύρματα της ΔΕΗ κάθισαν 68 χελιδόνια. Κάποια στιγμή έφυγαν τα μισά. Βρίσκω πόσα χελιδόνια έμειναν.

**ΛΥΣΗ:**

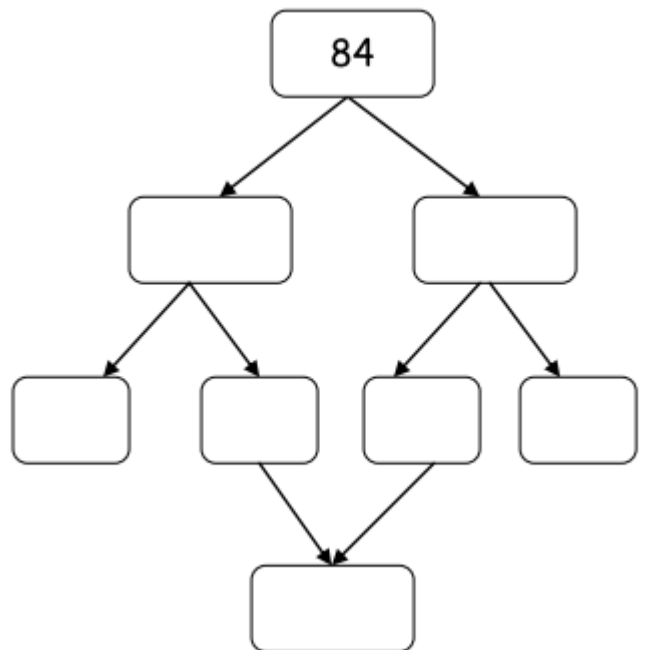


**ΑΠΑΝΤΗΣΗ:**

---

---

2. Ο κουμπάρς του Ηλία έχει 84 ευρώ. Ο αδερφός του έχει τα μισά. Πόσα έχει ο αδερφός του;



**ΑΠΑΝΤΗΣΗ:**

---

---