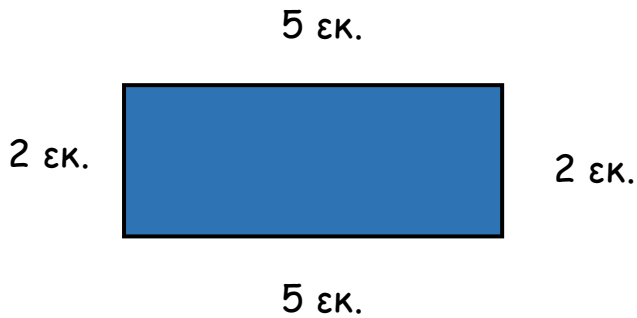


ΟΝΟΜΑ: _____

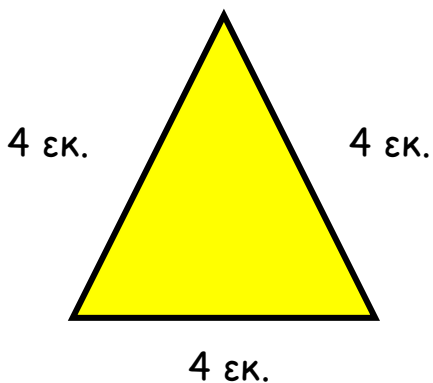
ΜΑΘΗΜΑΤΙΚΑ 2^η ΕΝΟΤΗΤΑ

Κεφ.15: Μετρώ ευθύγραμμα τμήματα

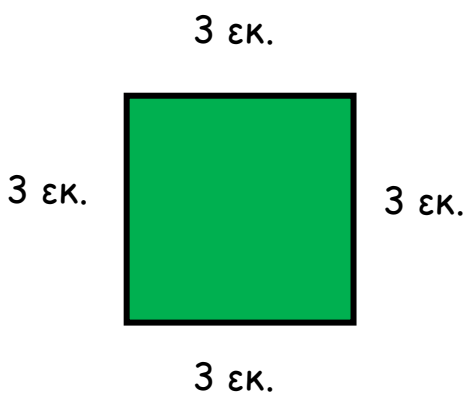
1. Υπολογίζω την περίμετρο των παρακάτω σχημάτων.



Ορθογώνιο: _____ + _____ + _____ + _____ = _____

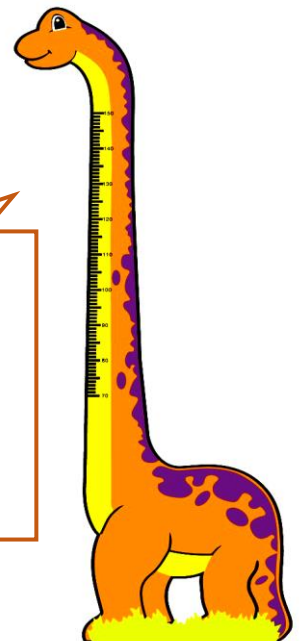


Τρίγωνο: _____ + _____ + _____ = _____



Τετράγωνο: _____ + _____ + _____ + _____ = _____




Όταν θέλω να βρω πόσο είναι όλες οι πλευρές ενός σχήματος γύρω-γύρω, τότε ψάχνω την **περίμετρο** του.



Για να βρω την περίμετρο, **προσθέτω** όλες τις πλευρές.



2. Μετρώ με τον χάρακά μου πόσα εκατοστά είναι η κάθε πλευρά. Έπειτα βρίσκω την περίμετρό τους.

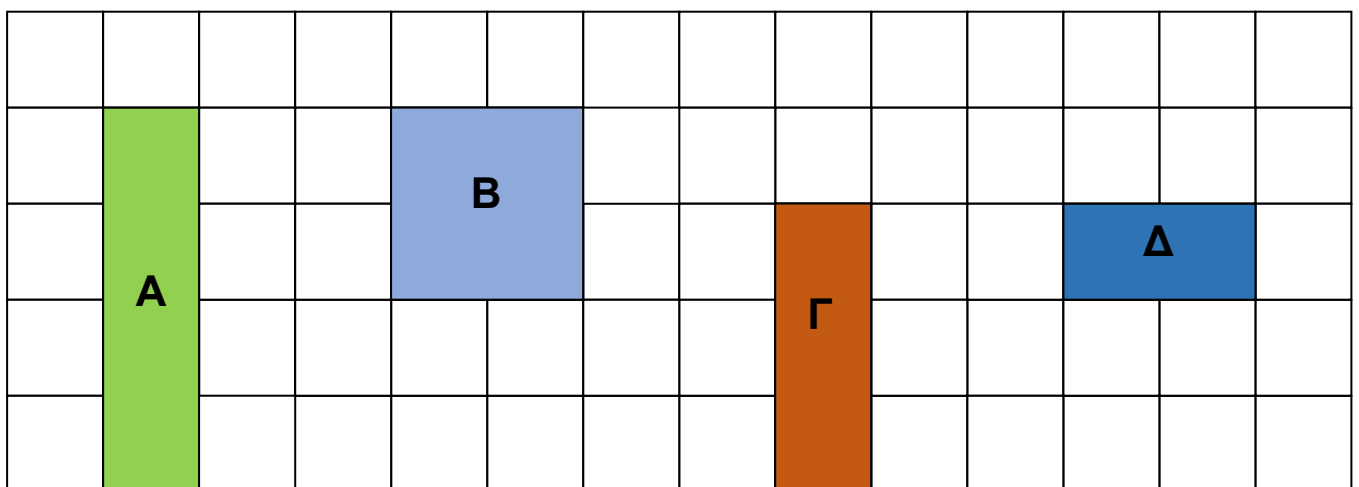


ΠΛΕΥΡΑ	ΜΗΚΟΣ
ΑΒ	_____εκ.
ΒΔ	_____εκ.
ΓΔ	_____εκ.
ΑΓ	_____εκ.
ΠΕΡΙΜΕΤΡΟΣ	_____εκ.

ΠΛΕΥΡΑ	ΜΗΚΟΣ
ΕΖ	_____εκ.
ΖΘ	_____εκ.
ΗΘ	_____εκ.
ΕΗ	_____εκ.
ΠΕΡΙΜΕΤΡΟΣ	_____εκ.

ΠΛΕΥΡΑ	ΜΗΚΟΣ
ΙΚ	_____εκ.
ΚΛ	_____εκ.
ΙΛ	_____εκ.
ΠΕΡΙΜΕΤΡΟΣ	_____εκ.

3. Τα κουτάκια με βοήθανε να βρω την περίμετρο του κάθε σχήματος.



A = _____

B = _____

Γ = _____

Δ = _____



Μεγαλύτερη Περίμετρο έχει το σχήμα _____.