

ΟΝΟΜΑ: \_\_\_\_\_

# Μαθηματικά 4η Ενότητα

## 32. Επαναληπτικό μάθημα

1. Συμπληρώνω τους αριθμούς που λείπουν για να σχηματιστούν οι σειρές.

	40			
--	----	--	--	--

12				
----	--	--	--	--

			29	
--	--	--	----	--

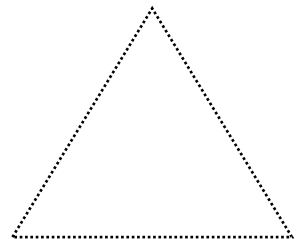



		32		
--	--	----	--	--

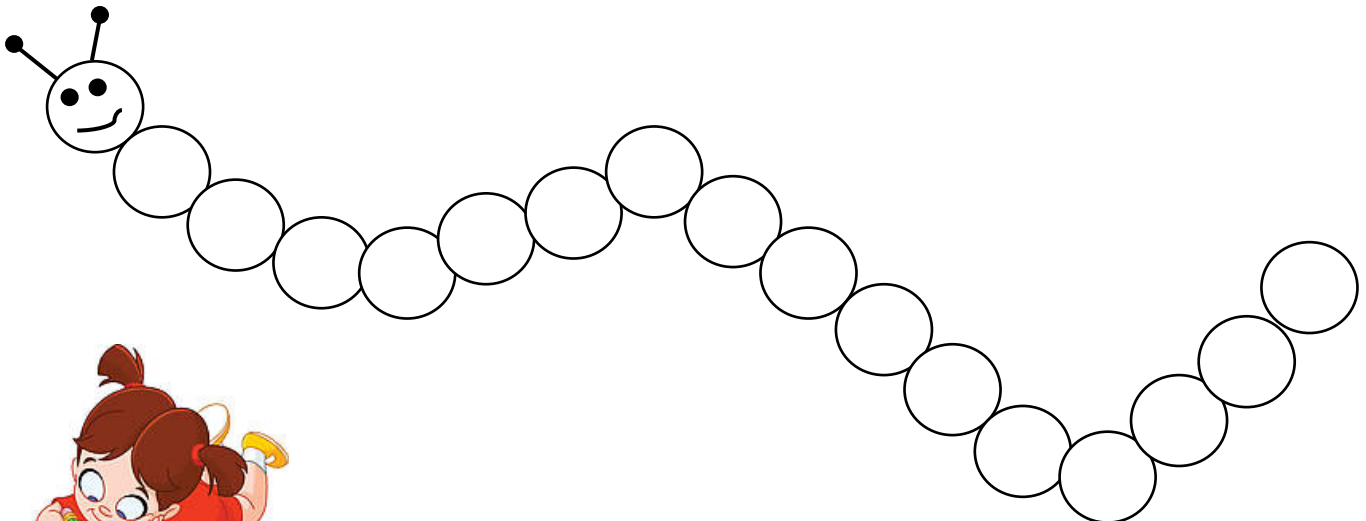
9				
---	--	--	--	--

				50
--	--	--	--	----

2. Σχεδιάζω με τον χάρακά μου τα παρακάτω σχήματα.



3. Σχεδιάζω το δικό μου μοτίβο με όποια χρώματα θέλω.



4. Βρίσκω το αποτέλεσμα στις παρακάτω πράξεις.

$5 + 2 = \underline{\quad}$

$4 + 3 = \underline{\quad}$

$7 + 1 = \underline{\quad}$

$6 + 3 = \underline{\quad}$

$8 + 0 = \underline{\quad}$

$9 + 1 = \underline{\quad}$

$3 + 5 = \underline{\quad}$

$2 + 6 = \underline{\quad}$



$3 - 2 = \underline{\quad}$

$5 - 4 = \underline{\quad}$

$9 - 6 = \underline{\quad}$

$8 - 4 = \underline{\quad}$

$6 - 3 = \underline{\quad}$

$7 - 0 = \underline{\quad}$

$10 - 5 = \underline{\quad}$

$10 - 8 = \underline{\quad}$

5. Συμπληρώνω όσα πρέπει για να φτάσω στον πάνω αριθμό.

5	
3	

6	
2	

7	
4	

8	
5	

9	
6	

10	
5	

6. Λύνω το παρακάτω πρόβλημα:

Ο Λευτέρης έχει **10** αυτοκινητάκια και χάρισε στον φίλο του, τον Παναγιώτη **4**. Πόσα αυτοκινητάκια του έμειναν;

ΛΥΣΗ:

ΑΠΑΝΤΗΣΗ: Του έμειναν  αυτοκινητάκια.