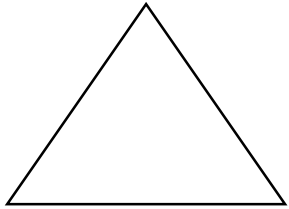



ΟΝΟΜΑ: _____


ΜΑΘΗΜΑΤΙΚΑ 6^η ΕΝΟΤΗΤΑ


Κεφ. 40 Γεωμετρικά σχήματα

1. Γράψω το όνομα κάθε γεωμετρικού σχήματος.






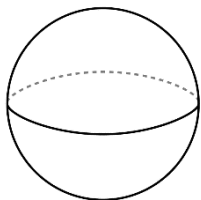




2. Ενώνω το κάθε γεωμετρικό στερεό με το όνομά του.



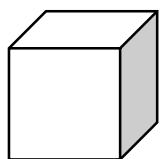
σφαίρα



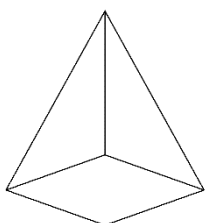
στερεό
ορθογώνιο



πυραμίδα



κύλινδρος



κύβος

Με
βοηθάνε οι
σελίδες
28-29 του
βιβλίου μου.

