
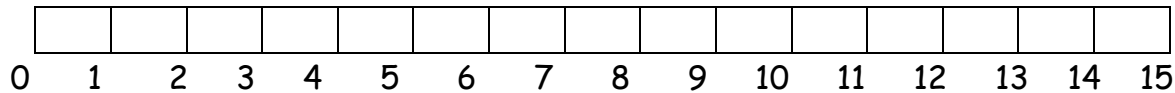


ΟΝΟΜΑ: _____


ΜΑΘΗΜΑΤΙΚΑ 1^η ΕΝΟΤΗΤΑ

Κεφ.4: Μετρώ με εκατοστόμετρα 2


1. Γράφω κάτω από κάθε αντικείμενο το μήκος του.



Ο πύραυλος έχει μήκος _____




Η μπογιά έχει μήκος _____



Το χαρτονόμισμα έχει μήκος _____

2. Πάρε το χάρακά σου τώρα και μέτρησε τα παρακάτω σχήματα. Μην ξεχάσεις να τοποθετήσεις το "0" στην αρχή κάθε πλευράς.



AB=.....εκατοστά
BΓ=.....εκατοστά
ΓΔ=.....εκατοστά
ΔΑ=.....εκατοστά
ΑΒΓΔ=.....εκατοστά

3. Ποια καραμέλα είναι μακρύτερη; Χρησιμοποιώ το χάρακά μου, μετρώ και συγκρίνω.

A



_____ εκατοστά

B



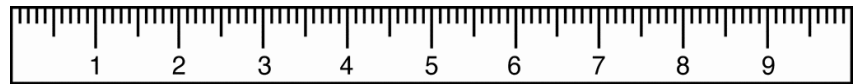
_____ εκατοστά

Μεγαλύτερη είναι η _____ καραμέλα γιατί έχει μήκος _____ εκατοστά.

4. Ένας συνδετήρας έχει μήκος 2 εκατοστά. Πόσο μήκος έχουν:

Ζωγραφίζω


- Οι 2 συνδετήρες;



Έχουν μήκος _____ εκατοστά.

- Οι 3 συνδετήρες;

Ζωγραφίζω



Έχουν μήκος _____ εκατοστά.

5. Σχεδιάζω με τον χάρακα μου μια γραμμή με μήκος 3 εκατοστά και άλλη μία με μήκος 8 εκατοστά.

