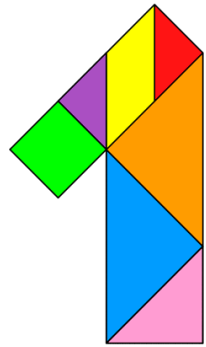
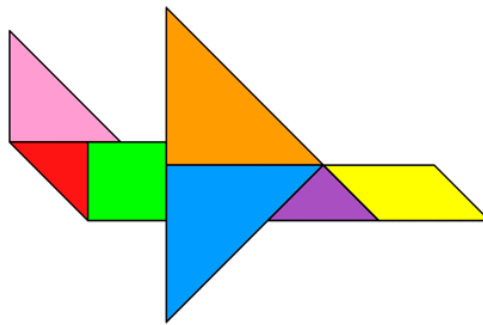
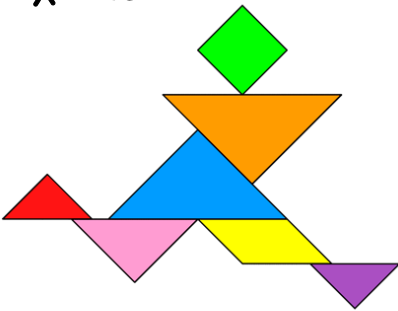


ΟΝΟΜΑ: _____

Μαθηματικά 7η Ενότητα

51. Επαναληπτικό Μάθημα

1. Με τα κομμάτια του τάνγκραμ μου σχηματίζω τα παρακάτω σχέδια.



2. Παρατηρώ την **πρώτη σειρά** και κάνω τις παρακάτω πράξεις.

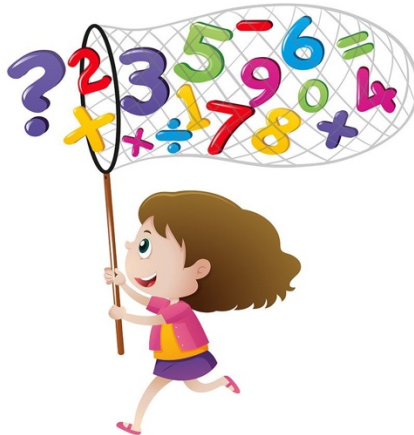
$4 + 2 = \underline{\quad}$

$14 + 2 = \underline{\quad}$

$24 + 2 = \underline{\quad}$

$34 + 2 = \underline{\quad}$

$44 + 2 = \underline{\quad}$



$7 - 3 = \underline{\quad}$

$17 - 3 = \underline{\quad}$

$27 - 3 = \underline{\quad}$

$37 - 3 = \underline{\quad}$

$47 - 3 = \underline{\quad}$

3. Υπολογίζω και συμπληρώνω τους αριθμούς που λείπουν.

10	5
2	

Όλα μαζί είναι **20**.

5	5
2	

Όλα μαζί είναι **18**.

7	3
10	

Όλα μαζί είναι **30**.

4	5
3	

Όλα μαζί είναι **15**.

5	5
5	

Όλα μαζί είναι **25**.

1	2
3	

Όλα μαζί είναι **12**.

4. Κάνω τις παρακάτω πράξεις με όποιον τρόπο με βολεύει.

$$8 + 8 = \underline{\quad}$$

$$9 - 5 = \underline{\quad}$$

$$9 + 5 = \underline{\quad}$$

$$25 - 5 = \underline{\quad}$$

$$20 + 7 = \underline{\quad}$$

$$17 - 4 = \underline{\quad}$$

$$12 + 4 = \underline{\quad}$$

$$15 - 8 = \underline{\quad}$$

$$8 + 6 = \underline{\quad}$$

$$13 - 9 = \underline{\quad}$$

$$13 + 3 = \underline{\quad}$$

$$18 - 9 = \underline{\quad}$$

5. Κυκλώνω τη σωστή απάντηση για να λύσω το πρόβλημα.

Ο Κωνσταντίνος έχει φάει 15 παγωτά και ο Μάριος έχει φάει 9. Πόσα **περισσότερα** παγωτά έχει φάει ο Κωνσταντίνος;

$$15 + 9 = 24$$

$$15 - 9 = 6$$

$$9 - 15 = 6$$

$$9 + 15 = 14$$



Απάντηση: _____