






ΟΝΟΜΑ: _____

ΜΑΘΗΜΑΤΙΚΑ 8^η ΕΝΟΤΗΤΑ
Κεφ. 52 Οι αριθμοί μέχρι το 70

1. Συνεχίζω να μετρώ.



2. Γράφω τον προηγούμενο και τον επόμενο αριθμό.



3. Βρίσκω ποιος είναι ο αριθμός. Κάθε **τρίγωνο** μετράει για μια δεκάδα και κάθε **κύκλος** για μία μονάδα.

