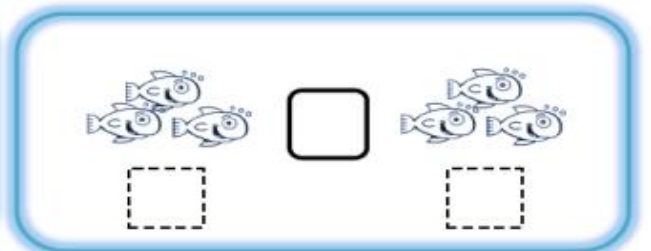

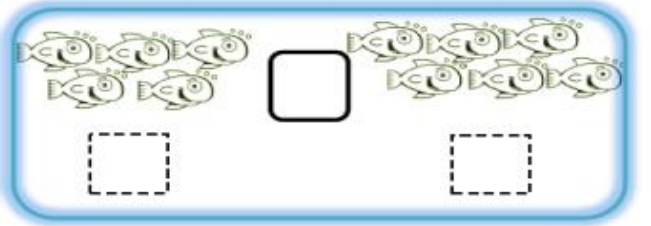
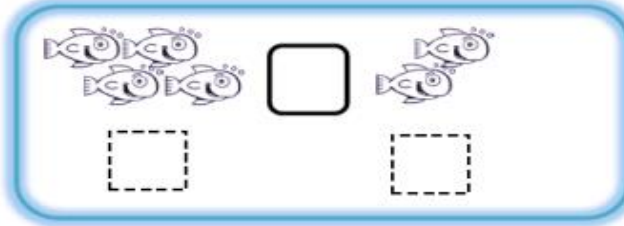




ΟΝΟΜΑ: _____

ΜΑΘΗΜΑΤΙΚΑ 2^η ΕΝΟΤΗΤΑ

Κεφ.12: Σύγκριση αριθμών - Τα σύμβολα (=, >, <) 1

1. Το στόμα της φάλαινας τρώει πάντα τα πιο πολλά. Συμπληρώνω τους αριθμούς και τα σύμβολα (<, >, =).



2. Ενώνω τους αριθμούς με το όνομά τους.



τρία πέντε ένα δύο τέσσερα