

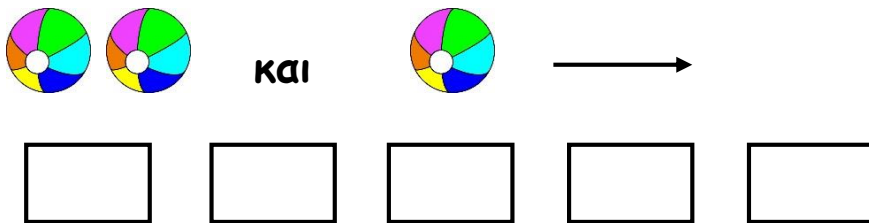
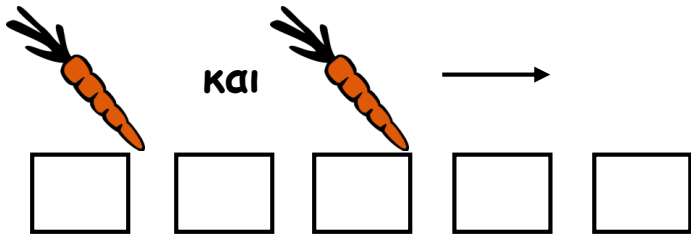
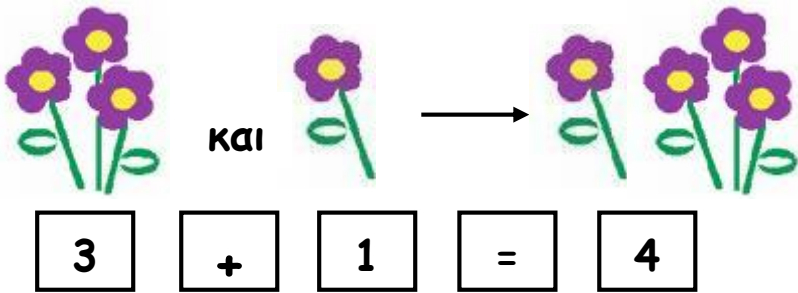


ΟΝΟΜΑ: \_\_\_\_\_




## ΜΑΘΗΜΑΤΙΚΑ 2<sup>η</sup> ΕΝΟΤΗΤΑ


### Κεφ.14: Γραφή της πρόσθεσης με χρήση συμβόλων 1

1. Κάνω τις παρακάτω πράξεις στο πάνω μέρος σαν ζωγράφος και στο κάτω μέρος σαν μαθηματικός, όπως το παράδειγμα. Με βοηθούν τα σύμβολα της μάγισσας Προσθετόλ (+ =).









2. Πόσο κάνουν όλα μαζί; Γράφω τους αριθμούς κάτω από τα καπέλα και κάνω τις πράξεις.



  
 ..... + ..... + ..... = .....




  
 ..... + ..... + ..... = .....



  
 ..... + ..... + ..... = .....



  
 ..... + ..... + ..... = .....

3. Βοηθώ τη μάγισσα Προσθετόλ να κάνει τις παρακάτω πράξεις (με βοηθούν τα ξυλάκια μου).

$1 + 1 = \underline{\quad}$	$3 + 2 = \underline{\quad}$	$2 + 0 = \underline{\quad}$	$2 + 1 + 1 = \underline{\quad}$	$1 + 4 = \underline{\quad}$
$2 + 1 = \underline{\quad}$	$2 + 2 = \underline{\quad}$	$1 + 1 + 1 = \underline{\quad}$	$3 + 1 + 1 = \underline{\quad}$	$0 + 5 = \underline{\quad}$

4. Η μαμά είχε στο βάζο  μαργαρίτες. Της χάρισα  ακόμη.

Πόσα λουλούδια θα έχει τώρα στο βάζο;

Σχεδιάζω:

Γράφω με αριθμούς:  +  =

Απαντώ : Στο βάζο θα έχει  μαργαρίτες.